



## Evaluación Formativa 1° básicos Artes Visuales

### Semana 18 del 27 de julio al 31 de agosto

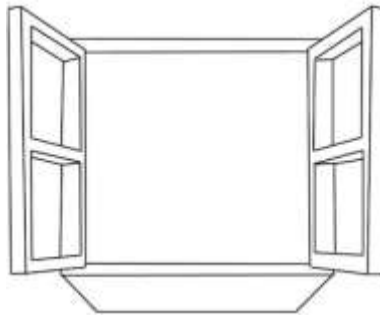
Nombre:	Fecha:	Curso:
Objetivo de Aprendizaje: OA 1: Expresar y crear trabajos de arte a partir de la observación del • entorno natural: paisaje, animales y planta • entorno cultural: vida cotidiana y familiar • entorno artístico: obras de arte local, chileno, latinoamericano y del resto del mundo., pintura, collage, escultura, dibujo digital y otros.		

#### Instrucciones:

A continuación, deberás leer y responder una evaluación formativa. Ésta es una evaluación que tiene el propósito de monitorear el proceso de aprendizaje de cada contenido y habilidad en las guías trabajadas. Por lo que, es importante responder de manera honesta e individualmente para conocer cuánto has progresado en tus aprendizajes. Además, se realizará una retroalimentación correspondiente que te ayudará a fortalecer tus conocimientos.

Lee atentamente cada enunciado y responde marcando la alternativa correcta con una X.

Observa esta ventana:



1.- ¿Qué tipo de líneas se usaron para dibujar la ventana?


a) Con líneas curvas.



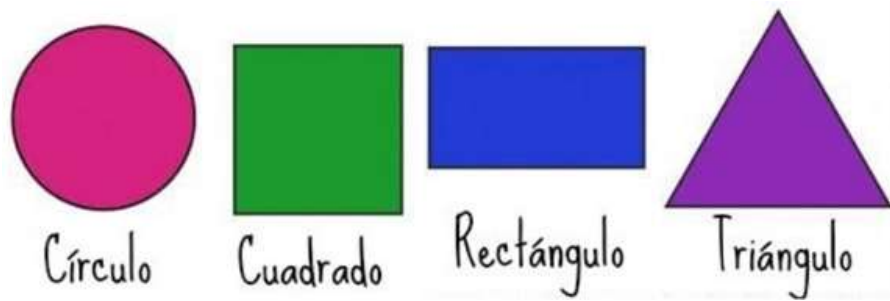
b) Con líneas quebradas.



c) Líneas rectas.



Observa la siguiente imagen:



2.- ¿Qué nombre tienen estas formas?

- a) Formas coloridas.
- b) Figuras geométricas.
- c) Geometría con líneas rectas.

Observa la siguiente obra:



3.- ¿Qué tipo de líneas hay en la imagen?

- a) Líneas curvas.
- b) Líneas rectas y curvas.
- c) Líneas rectas.

¿Recuerdas la flor que realizamos en clases?



4.- ¿Qué tipo de línea usamos para pintarla?

- a) Líneas casi rectas.
- b) Líneas curvas.
- c) Líneas rectas.


Mira con detalle esta imagen:



5.- ¿Qué formas usaron en las hojas del árbol?

- a) Rectángulos.
- b) Triángulos.
- c) Círculos.

Observa bien este dibujo:



6.- ¿Qué tipo de líneas hay en el dibujo anterior?

- a) Tiene sólo líneas rectas.
- b) Tiene sólo líneas curvas
- c) Tiene líneas rectas y curvas.


En la siguiente imagen:




7.- ¿Qué materiales usaron para armar cada animal?

- a) Utilizaron materiales de la naturaleza.
- b) Utilizaron materiales artificiales.
- c) Utilizaron materiales de plástico.

8.- ¿En qué se parecen las siguientes figuras geométricas?



**triángulo**



**cuadrado**

- a) Ambas tienen líneas rectas.
- b) Las dos tienen líneas curvas.
- c) Ambas tienen colores iguales.