



## EVALUACIÓN FORMATIVA DE ARTES VISUALES PRIMEROS AÑOS BÁSICOS

Nombre: \_\_\_\_\_

Curso: 1° \_\_\_\_\_


Fecha: Miércoles 7 de octubre, 2020

**Objetivo de aprendizaje:** Expresar y crear trabajos de arte a partir de la observación del: entorno natural: paisaje, animales y plantas; entorno cultural: vida cotidiana y familiar (OA1)

- **INDICACIONES:** Escucha o lee atentamente cada enunciado y responde marcando con una X la alternativa correcta.

1. Observa la imagen y responde, ¿en qué lado de la mariquita están los círculos?

- A. En el lado derecho.
- B. En el lado izquierdo.
- C. En el centro.



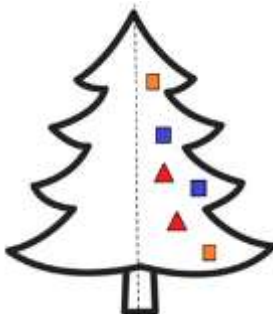
2. ¿Qué juguetes están a la **derecha** de la niña?



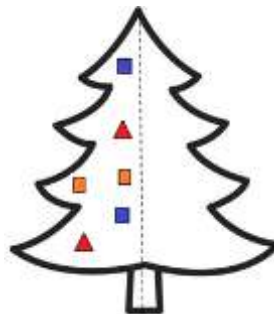
- A. El oso y el balde.
- B. El balde y la casa.
- C. La casa y la cocina.

3. La profesora indicó a las estudiantes que decoraran con figuras 2D la parte **izquierda** del árbol. ¿Qué alternativa muestra la actividad realizada correctamente?

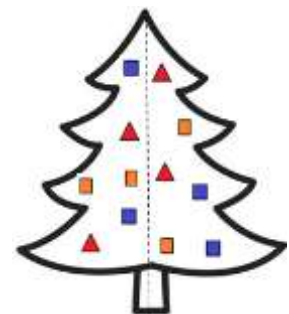
A.



B.




C.



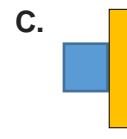
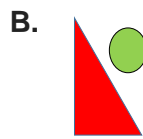



4. Recuerda la actividad el árbol que realizamos en clases y responde.

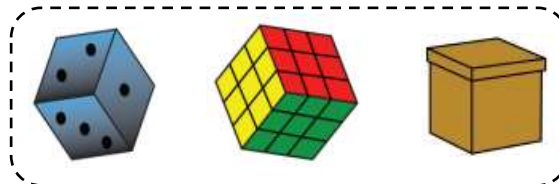


- ¿Cuál de las siguientes alternativas es correcta?  
A. En la derecha están las figuras azules.  
B. En la izquierda están las figuras rojas.  
C. En la derecha están las figuras rojas.

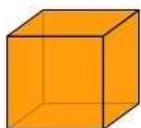
5. Paula está realizando una pintura con la misma técnica utilizada en el árbol anterior.  
¿Qué figuras debe hacer en la parte derecha para completar su obra?



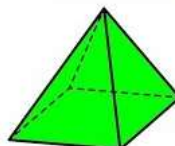
6. ¿Qué figura 3D se asemeja a las siguientes imágenes?



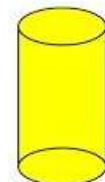
A. Un cubo



B. Una pirámide



C. Un cilindro





7. ¿Qué envase se puede utilizar para construir estos tambores?



A. Un cilindro



B. Un prisma



C. Un cubo



8. Josefina reunió los siguientes envases para construir su robot.



• ¿Qué tienen en común los envases reunidos por Josefina?

- A. Pueden rodar.
- B. No pueden rodar.
- C. Tienen caras curvas.

9. Sofía construyó el siguiente robot:

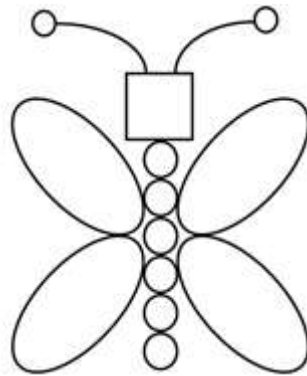


• ¿Qué figuras 3D utilizó principalmente Sofía?

- A. Pirámides.
- B. Cilindros y conos.
- C. Cubos y prismas.



10. Catalina dibujó la siguiente mariposa, utilizando las formas que presentaban los distintos envases que recolectó.



- ¿Cuál de los siguientes envases habrá utilizado Catalina para dibujar la cabeza de la mariposa?

A.



B.



C.

