



## GUIA DE HISTORIA, GEOGRAFÍA Y CIENCIAS SOCIALES

SEMANA 15 y 16 , DEL 06 AL 17 DE JULIO

PRIMERO BASICO

Nombre: \_\_\_\_\_

Curso: \_\_\_\_\_

Fecha: \_\_\_\_\_

Objetivo: **(OA08) Reconocer que los mapas y planos son formas de representar lugares. (OA09) Identificar a Chile en mapas, incluyendo la cordillera de los Andes, el océano Pacífico, su región, su capital y su localidad.**




Un **plano** es un **dibujo** que muestra cómo se vería desde arriba un **espacio pequeño** (como un colegio, una casa o un barrio). Así, podemos estudiar sus elementos y conocer mejor sus características geográficas.


- I. Completa el plano del dormitorio dibujando los símbolos que faltan.

Símbolos

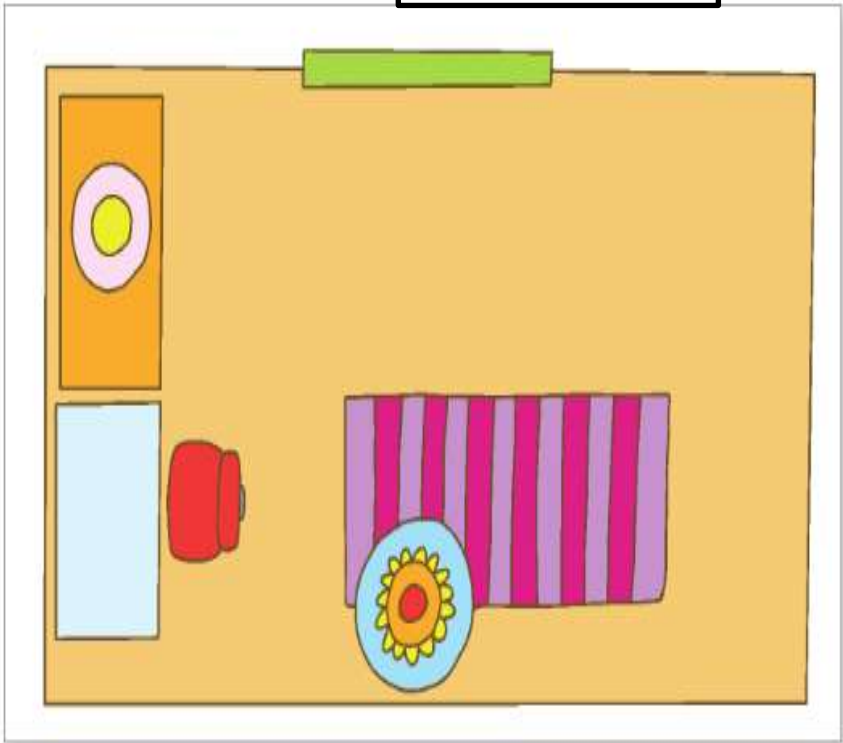
cama



velador



cama



velador



II. Escribe la ubicación de los objetos que aparecen en el dormitorio, utilizando las siguientes palabras.

derecha

izquierda

delante

detrás

A. El  está \_\_\_\_\_ de la .

B. La  está a la \_\_\_\_\_ del .

C. La  está a la \_\_\_\_\_ del .

D. La  está \_\_\_\_\_ de la .

E. ¿Qué pasaría si **NO** tuvieras puntos de referencia para ubicarnos en el espacio? Comenta con tu familia.

III. Observa el plano del barrio de  y anota el nombre de la calle donde queda su casa.



Mi casa queda en la calle \_\_\_\_\_  
 \_\_\_\_\_  
 \_\_\_\_\_





3. Completa las casillas que aparecen en el mapa, anotando la letra correspondiente a cada cordillera.

A

Cordillera de los Andes.

B

Cordillera de la costa.

4. Marca en el mapa una X en el lugar donde vives.

5. Pinta las afirmaciones que son **correctas**.

Chile se encuentra entre el océano Pacífico y la cordillera de los Andes.

La cordillera de los Andes se encuentra entre el océano Pacífico y la cordillera de la Costa.

La cordillera de los Andes es más larga que la cordillera de la Costa.

6. Con la ayuda de un adulto, completa la siguiente ficha.

Yo vivo en la comuna de \_\_\_\_\_

que pertenece a la región \_\_\_\_\_.

Su capital es \_\_\_\_\_.

