



EVALUACIÓN FORMATIVA DE HISTORIA 1° BÁSICO SEMANA 18 DEL 27 AL 31 DE JULIO


| | |
|---|---------------|
| Nombre: | |
| Curso: | Fecha: |
| OA : (OA2) Secuenciar acontecimientos y actividades de la vida cotidiana, personal y familiar, utilizando categorías relativas de ubicación temporal, como antes, después; ayer, hoy, mañana; día, noche; este año, el año pasado, el año próximo. (OA14) Explicar y aplicar algunas normas para la buena convivencia y para la seguridad y el autocuidado en su familia, en la escuela y en la vía pública. (OA15) Identificar la labor que cumplen, en beneficio de la comunidad, instituciones como la escuela, la municipalidad, el hospital o la posta, Carabineros de Chile, y las personas que trabajan en ellas. (OA08) Reconocer que los mapas y planos son formas de representar lugares. (OA09) Identificar a Chile en mapas, incluyendo la cordillera de los Andes, el océano Pacífico, su región, su capital y su localidad. | |

SELECCION MULTIPLE

Escucha atentamente y luego responde las preguntas, encerrando en un círculo la letra de la alternativa que consideres correcta. (lo que la estudiante logre leer, que lo haga por si sola por favor)

A partir del siguiente texto podrás responder las preguntas 1, 2 y 3.

El cumpleaños de Alicia






Alicia está muy contenta porque hoy cumple seis años. Ayer sus padres fueron al supermercado a comprarle una torta de cumpleaños, golosinas y adornos.

También le compraron una piñata y muchos dulces para poner dentro.

A las cinco de la tarde de hoy van a llegar sus amigos a celebrar con ella.

Alicia cree que quizás puedan jugar hasta que sea de noche en el patio de su casa. Y mañana quiere regalarle un trozo de torta a su amiga, quien no puede venir hoy.

| | | | |
|---|--|---|--|
| 1. ¿Por qué Alicia está contenta? | 2. ¿Qué hicieron ayer sus padres? | | |
| A. Porque mañana cumple seis años. | A.  | B.  | C.  |
| B. Porque hoy cumple seis años. | | | |
| C. Porque ayer cumplió seis años. | | | |

3. Según Alicia ¿Hasta qué parte del día podrán jugar?

A.



B.



C.



4. Según la imagen ¿Qué viene **antes** y que viene **después**?



A



B



C



5. Si el cumpleaños de Alicia era un día sábado. ¿Qué **día de la semana** será mañana?

- A. Jueves.
- B. Viernes.
- C. Domingo.

6. ¿Qué elementos de seguridad vial falta en la imagen?



A.



B.



C.



7. ¿Qué acciones permiten la buena convivencia en el hogar?



A.

B.

C.

8. ¿Qué persona trabaja en esta institución?



A.



B.



C.

9. ¿Dónde se atienden los



?



A

B

C

10. ¿A quién llamamos en caso de emergencia?



133

A

132

B

131

C

Observa la siguiente imagen y responde la pregunta 11 y 12.



11. ¿Qué objeto hay a la izquierda de la niña encerrada con rojo?



A.



B.



C.

12. ¿Qué imagen representa la sala de clases en un **plano**?



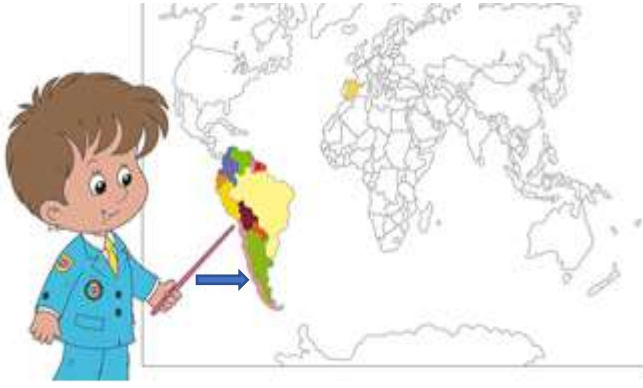
A.



B.



C.



13. Según el mapamundi de Felipe:
¿Qué país está indicando por la flecha?

- A. Perú.
- B. Chile.
- C. Argentina.

14. Según el mapa, Chile se encuentra entre:



- A. El océano atlántico y cordillera de la costa.
- B. El océano Pacífico y cordillera de la costa.
- C. El océano pacífico y cordillera de los Andes.

