



TAREA DE HISTORIA, GEOGRAFÍA Y CIENCIAS SOCIALES 1° BÁSICO

Semana 20 y 21, del 10 al 21 de Agosto.

Nombre: _____

Curso: _____

Fecha: _____

Objetivo: **(OA09) Identificar a Chile en mapas, incluyendo la cordillera de los Andes, el océano Pacífico, su región, su capital y su localidad.**

TICKET DE SALIDA

- I. Escucha este relato con mucha atención y luego respondes a las preguntas.

“El viaje de Sebastián”

Sebastián y su familia fueron a recorrer Chile en las vacaciones. Comenzaron su recorrido en el norte del país, donde disfrutaron bailando en las fiestas de La Tirana. Luego de unos días de descanso, continuaron su recorrido por la zona central. En la ciudad de Rancagua fueron a comer al restaurante “Viva Chile”, donde unos huasos les enseñaron a bailar un animado pie de cueca.

Después continuaron su viaje por la zona sur de Chile. En la ciudad de Temuco conocieron el mercado, un lugar donde se vende comida y artesanías de la región. Allí había un grupo de personas mapuches que vestían sus trajes típicos.




La familia de Sebastián se encontraba realmente cansada de tanto viajar y recorrer, pero estaban muy felices de conocer este país hermoso.





Responde las siguientes preguntas de acuerdo al texto.

1. ¿Qué país recorrió Sebastián y su familia?
 - a) Chile.
 - b) Temuco.
 - c) Rancagua.

2. ¿Dónde terminó el recorrido de Sebastián y su familia?
 - a) En el norte del país. 
 - b) En el sur del país. 
 - c) En el centro del país. 

Observa la imagen y responden la pregunta 3 y 4.



3. ¿Cuáles son los países que limitan al norte con Chile?
 - a) Bolivia y Argentina.
 - b) Bolivia y Perú.
 - c) Perú y Argentina.

4. ¿Qué descripción es la correcta de acuerdo al mapa?
 - a) Chile es un país largo y ancho.
 - b) Chile limita al este con Argentina.
 - c) Chile limita al este con el Océano pacífico.

**¡Gracias
por apoyo
en casa!**

