



EVALUACIÓN FORMATIVA DE HISTORIA 1° BÁSICO SEMANA 27 DEL 28 AL 02 DE OCTUBRE

Nombre:

Curso:

Fecha:

OA : (OA09) Identificar a Chile en mapas, incluyendo la cordillera de los Andes, el océano Pacífico, su región, su capital y su localidad.

(OA10): Observar y describir paisajes de su entorno local, utilizando vocabulario geográfico adecuado (país, ciudad, camino, pueblo, construcciones, cordillera, mar, vegetación y desierto) y categorías de ubicación relativa (derecha, izquierda, delante, detrás, entre otros).

Estimadas niñas y apoderados:

Junto con saludarlos esperamos que se encuentren muy bien junto a sus familias, cuidándose mucho durante este periodo largo de pandemia en nuestro país y hayan disfrutado de unas lindas fiestas patrias.

Les queremos comunicar que esta semana corresponde a **evaluación formativa**, lo que significa que enviaremos a través del correo electrónico un formulario por asignatura para que las estudiantes puedan responder de manera online la evaluación.

Solicitamos nuevamente de su apoyo, donde solo pueda leer cada pregunta a la estudiante, para que pueda responder de manera autónoma cada una de sus evaluaciones formativa, ya que necesitamos la información real para saber en qué nivel de aprendizaje están nuestras estudiantes y realizar las correspondientes retroalimentaciones.

Las evaluaciones también serán subidas a la página web de nuestro establecimiento. Si usted prefiere o solo tiene acceso a que la niña responda la prueba en formato impreso o simplemente descargando la prueba a un computador, puede hacerlo, pero luego debe ingresar al correo de la estudiante e ingresar sus respuestas para luego enviarla a su profesora jefe.

Como equipo de primero básico queremos nuevamente agradecer a todos los apoderados que han apoyado el proceso de enseñanza- aprendizaje de las estudiantes, contar con ustedes es de suma importancia para el logro de nuestros objetivos.

A continuación, quedarán los correos electrónicos de cada profesora jefe y de asignatura. Si usted tiene alguna duda o consulta no dude en hacerla llegar para poder entregarle una pronta respuesta.

Saluda atte.

Equipo de 1° básicos colegio República Argentina.

Curso - Asignatura	Correo electrónico
1°A	loreto.valderrama@colegio-republicaargentina.cl
1°B	carolina.salinas@colegio-republicaargentina.cl
1°C	constanza.urzua@colegio-republicaargentina.cl
Matemáticas	evelyn.munoz@colegio-republicaargentina.cl
Religión	maria.rubio@colegio-republicaargentina.cl
Ed. Física	ana.cabrera@colegio-republicaargentina.cl

SELECCION MULTIPLE

INSTRUCCIONES: Escucha atentamente y luego responde las preguntas, encerrando en un círculo la letra de la alternativa que consideres correcta. **(lo que la estudiante logre leer, que lo haga por si sola por favor)**

Observa la imagen y responde la pregunta 1 y 2.

1. ¿Qué forma tiene Chile?

- A) Chile es corto y angosto.
- B) Chile es largo y angosto.
- C) Chile es largo y ancho.



2. ¿Qué océano se encuentra a la izquierda de Chile en el mapa?

- A) Océano Atlántico.
- B) Océano Pacífico.
- C) Océano Ártico.

3. ¿Qué mapa muestra las regiones de nuestro país?

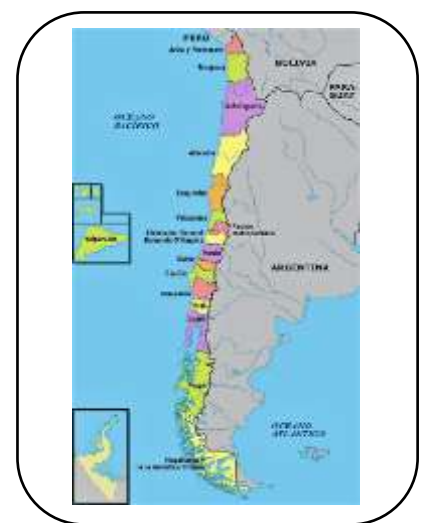
4.



A



B



C

Observa la imagen y responde la pregunta 4

5. Según el mapa de Gaspar ¿Cómo se llama el continente donde está ubicado Chile?



A) América del norte.

B) América del centro.

C) América del sur.

6. Según el siguiente mapa de América del sur, ¿Qué países limitan con Chile?



A) Limita con Perú, Bolivia y Ecuador.

B) Limita con Perú, Bolivia y Paraguay.

C) Limita con Perú, Bolivia y Argentina.

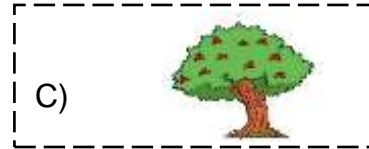
Observa la siguiente imagen y responde la pregunta 6 y 7



7. ¿Qué elemento natural se encuentra en el paisaje?



8. ¿Qué elementos creado por el hombre se encuentra en el paisaje?



9. El siguiente concepto corresponde a:


Ruta que une distintos lugares y por donde circulan muchos autos.






Observa la siguiente imagen y contesta la pregunta 9 y 10



10. ¿Qué está a la derecha del espanta pájaro?



11. ¿Qué se encuentra a la izquierda del pato blanco?



¡Gracias por el apoyo en casa!

