



## GUÍA DE MATEMÁTICA 1º BÁSICO

Semana 13 desde 22-26 junio

Nombre:	
Curso:	Fecha :
OA : Relacionar la acción de juntar con la adición de números del 0 al 10 con material concreto, pictórico y simbólico.	

**Instrucciones:** Observa bien la imagen. Queremos juntar las vacas de cada grupo para saber cuántas vacas hay en total. Puedes usar tus deditos como estrategia para unir las.

¿Si las **juntamos** vamos a tener **más** vacas o **menos** vacas?

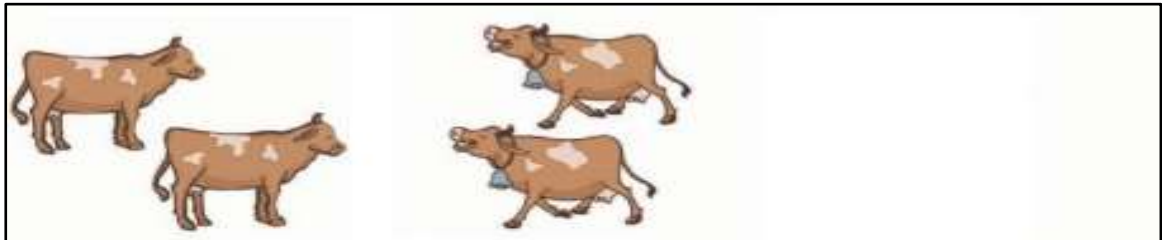
3 más 2 son 5 en total

A partir del ejemplo anterior y siguiendo las instrucciones que están a continuación , completa los siguientes ejercicios.

- Cuenta cuántos animales hay en el primer grupo y escríbelo en el primer cuadrado.
- Luego cuenta cuántos hay en el segundo grupo y escríbelo en el segundo cuadrado.
- Encierra todos los animales para juntarlos y escribe cuántos hay en total.



Ejercicios:

□ más □ son □ en total



más  son  en total

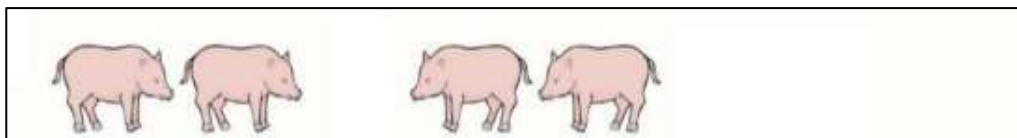
¿Cómo escribimos las palabras “más” y “son” en matemáticas?

más  son  en total

+  =

- Escribe cuántos animales hay en cada grupo. Encierra todos los animales para juntarlos y escribe cuántos hay en total. Luego completa la oración numérica.



más  son  en total

—  =  —

más  son  en total  
 —  —

Usa los dibujos para sumar y escribe cuántos hay en cada grupo y el total

+  =        +  =

+  =        +  =

Observa, luego dibuja en el frasco vacío el total de bolitas de los dos frascos y completa la frase numérica.

a)

○  ○

b)

○  ○