



TAREA DE MATEMÁTICAS 1ºBÁSICO

Semana 14 del 29 de junio al 03 de julio.

Nombre:	
Curso:	Fecha :
OA : Relacionar la acción de agregar con la adición de números del 0 al 10 con material concreto, pictórico y simbólico.	

Instrucciones: En la primera fila se pintó una manzana roja y el resto verde. En la segunda fila debes pintar dos manzanas rojas y el resto verde. Debes seguir con las siguientes filas aumentando una manzana roja y completando la frase numérica.

	$\overset{1}{\dots\dots\dots} + \overset{9}{\dots\dots\dots} = 10$
	$\underline{\quad} + \underline{\quad} = 10$
	$\underline{\quad} + \underline{\quad} = 10$
	$\underline{\quad} + \underline{\quad} = 10$
	$\underline{\quad} + \underline{\quad} = 10$
	$\underline{\quad} + \underline{\quad} = 10$
	$\underline{\quad} + \underline{\quad} = 10$
	$\underline{\quad} + \underline{\quad} = 10$
	$\underline{\quad} + \underline{\quad} = 10$
	$\underline{\quad} + \underline{\quad} = 10$



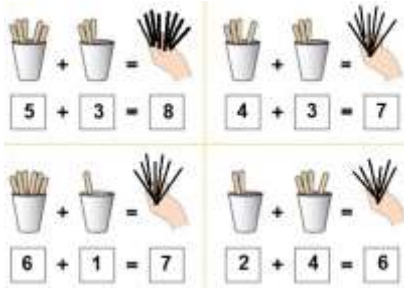
Completa de la página 42 a la 45
de tu texto del estudiante sumo primero
de 1º Básico

Si todavía no lo tienes puedes encontrarlo
en este link:

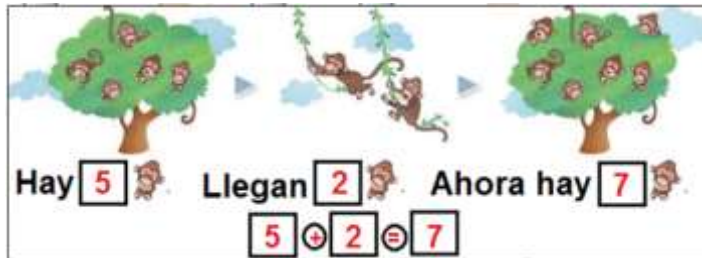
https://curriculumnacional.mineduc.cl/614/articles-145558_recurso_pdf.pdf

Solucionario guía semana 14

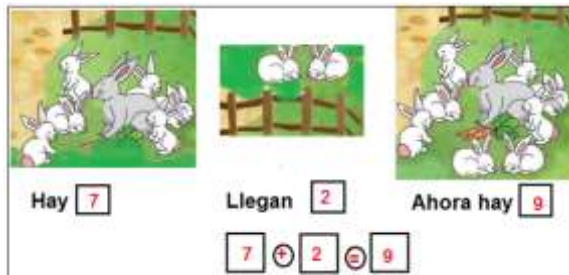
1.-



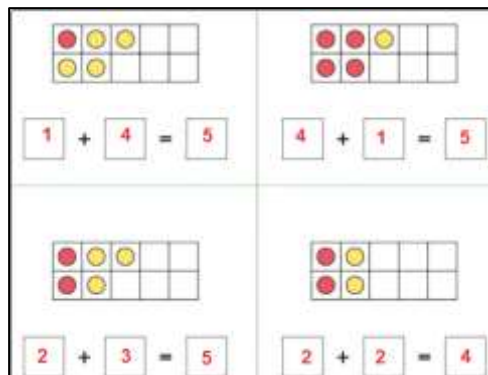
2.-



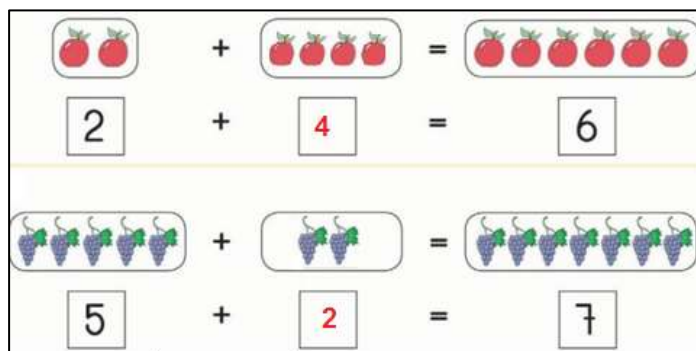
3.-



4.



5.



SOLUCIONARIO TAREA

$1 + 9 = 10$ $6 + 4 = 10$
 $2 + 8 = 10$ $7 + 3 = 10$
 $3 + 7 = 10$ $8 + 2 = 10$
 $4 + 6 = 10$ $9 + 1 = 10$
 $5 + 5 = 10$ $10 + 0 = 10$