



GUÍA DE MATEMÁTICAS 1º BÁSICO

Semana 15 del 06 al 10 de julio

Nombre:	
Curso:	Fecha :
OA : Relacionar la acción de avanzar con la adición de números del 0 al 10 con material concreto, pictórico y simbólico. Dar significado a las sumas en que alguno de los sumandos es cero.	



1.-

A. ¿En qué casillero se encuentra cada ficha?

Escribe el número.



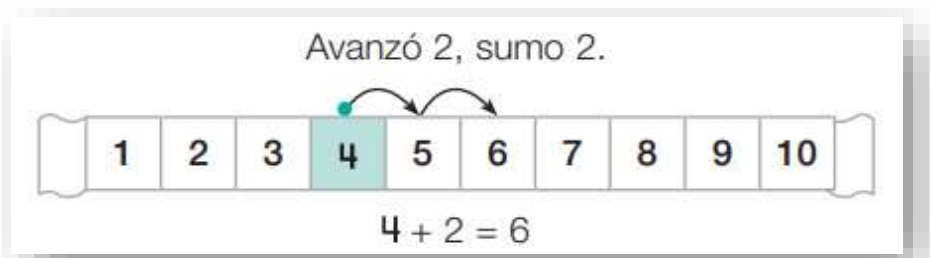
A.-Si avanzas dos casillas con la ficha roja ¿A qué número llegarás?

B.- ¿Cuántos casilleros debe avanzar la ficha roja para alcanzar a la ficha amarilla?

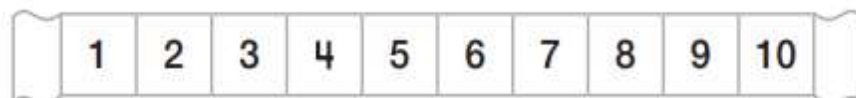
Te sugerimos que revises el archivo objetivo antes de resolver las siguientes situaciones.

2.-

- Marca la cantidad inicial en la cinta numerada
- Avanza contando hacia adelante la cantidad que corresponda.
- No olvides marcar los saltos.
- Guíate por el ejemplo:



A. Matías está en la casilla 5 y avanzará 5 casillas. ¿En qué casilla quedará?



$$\square + \square = \square$$

B.- Ema está en la casilla 2 y avanzará 4 casillas. ¿En qué casilla quedará?



$$\square + \square = \square$$


C.- Antonia está en la casilla 3 y avanzará 6 casillas. ¿En qué casilla quedará?

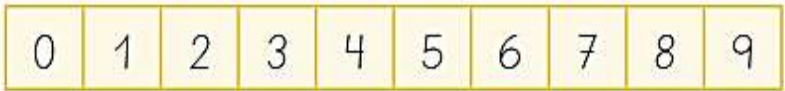


$$\square + \square = \square$$

3.-


Estaba en el piso 4 y subí 3 pisos. ¿A qué piso llegué?

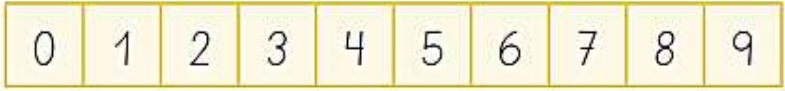




pero $\square \bigcirc \square = \square$











Estaba en la etapa 1 y avancé 7 etapas. ¿En qué etapa quedé?





$\square \bigcirc \square = \square$



4. Pinta la carita una vez que hayas realizado la suma en forma correcta. Puedes revisar el solucionario en el archivo tarea para comprobarlo



1. $4+4$ 
2. $4+3$ 
3. $6+2$ 
4. $7+1$ 
5. $9+0$ 
6. $6+1$ 
7. $5+3$ 
8. $5+2$ 
9. $8+0$ 
10. $8+1$ 

5.-Completa uniendo la cinta numerada con la operación que corresponda:

0	1	2	3	4	5	6	7	8	9	<input checked="" type="checkbox"/> $4+2$
0	1	2	3	4	5	6	7	8	9	<input checked="" type="checkbox"/> $6+2$
0	1	2	3	4	5	6	7	8	9	<input checked="" type="checkbox"/> $4+4$

6.-Completa la frase numérica en cada situación:

<input type="text"/>	+		=	
<input type="text"/>	+	<input type="text"/>	=	<input type="text"/>

	+	<input type="text"/>	=	
<input type="text"/>	+	<input type="text"/>	=	<input type="text"/>

7.- Completar las siguientes sumas:

$4 + 0 =$	<input type="text"/>	$0 + 4 =$	<input type="text"/>
$7 + 0 =$	<input type="text"/>	$0 + 7 =$	<input type="text"/>
$5 + 0 =$	<input type="text"/>	$0 + 5 =$	<input type="text"/>
$3 + 0 =$	<input type="text"/>	$0 + 3 =$	<input type="text"/>
$9 + 0 =$	<input type="text"/>	$0 + 9 =$	<input type="text"/>