



GUÍA DE MATEMÁTICAS 1º BÁSICO

Semana 29 del 12 al 16 de octubre

Nombre:	
Curso:	Fecha:
OA: Leer números del 0 al 20 y representarlos en forma concreta, pictórica y simbólica. (OA3) Comparar y ordenar números del 0 al 20 de menor a mayor y/o viceversa (OA4).	
Correos: constanza.urzua@colegio-republicaargentina.cl loreto.valderrama@colegio-republicaargentina.cl carolina.salinass@colegio-republicaargentina.cl evelyn.munoz@colegio-republicaargentina.cl	

Escribir números hasta el 19

1.- Cuenta los cuadrados en las barras y escribe los números que correspondan siguiendo el ejemplo:

1	1				1
	2				2
	3				3
	4				
	5				
	6				
	7				
	8				
	9				
1	0				1 0
1	1				1 1
1	2				
1	3				
1	4				
1	5				
1	6				
1	7				
1	8				
1	9				





2.- Encierra un grupo de 10 (1 Decena) y cuenta los que quedan sin agrupar. Para encerrar el grupo de a diez, se debe verificar el conteo tachando los elementos contados.

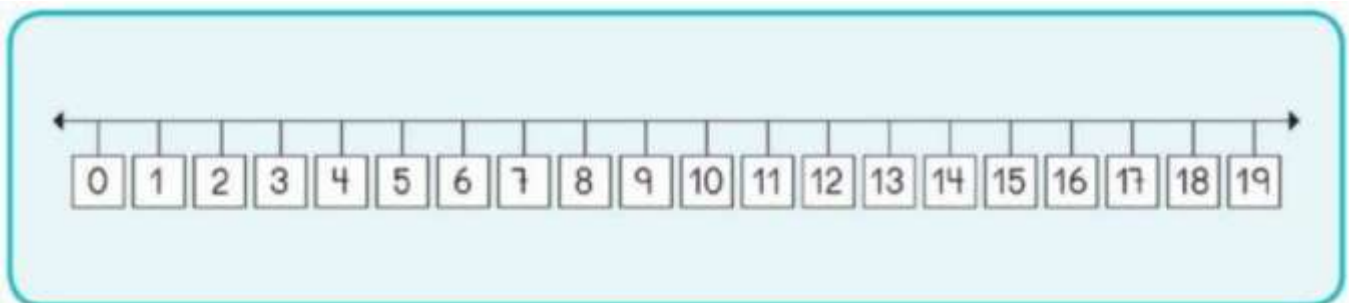
Guíate por el ejemplo:

Los números del 11 al 19 se pueden formar con un grupo de 10 y los elementos que quedan sin agrupar.
Hay 15 frutillas.



15 son y

 <p>14 son <input type="text" value="10"/> y <input type="text" value="4"/></p>	 <p>13 son <input type="text"/> y <input type="text"/></p>
 <p>12 son <input type="text"/> y <input type="text"/></p>	 <p>18 son <input type="text"/> y <input type="text"/></p>



3.- Utiliza la recta numérica para completar las secuencias:

9	10	11	12	13	14	15	16
7	8			11		13	14
12		14		16			19

Comparar cantidades

A bar chart with two bars. The left bar is grey and has 16 segments. The right bar is blue and has 13 segments. Below the bars are boxes containing the numbers 16 and 13, and a circle containing the greater-than sign (>).

16 es **mayor** que 13
13 es **menor** que 16

Para recordar

El cocodrilo siempre se come la cantidad mayor.

A crocodile is shown eating 7 fish. Below the fish is a box with the number 7. To the right of the crocodile are 2 fish. Below them is a box with the number 2. In the center, there is a box with 7, a circle with >, and a box with 2.

Se dice "7 es **mayor** que 2".

A crocodile is shown eating 2 fish. Below the fish is a box with the number 2. To the right of the crocodile are 7 fish. Below them is a box with the number 7. In the center, there is a box with 2, a circle with <, and a box with 7.

Se dice "2 es **menor** que 7".

4.- Compara y escribe el signo mayor o menor que:

A bar chart with two bars. The left bar is grey and has 10 segments. The right bar is red and has 8 segments. Below the bars are empty boxes and a circle.

_____ es **mayor** que _____
_____ es **menor** que _____

A bar chart with two bars. The left bar is grey and has 10 segments. The right bar is pink and has 4 segments. Below the bars are empty boxes and a circle.

_____ es **mayor** que _____
_____ es **menor** que _____

			_____ es mayor que _____ _____ es menor que _____
			_____ es mayor que _____ _____ es menor que _____

5.- Completa con los signos > < o = según corresponda

>	<	=
mayor que	menor que	igual que

3		8	4		7
1		5	6		2
7		3	7		5
8		6	9		9

11		10	11		17
14		12	17		12
13		16	13		11
17		17	19		18