



## EVALUACIÓN FORMATIVA DE MÚSICA PRIMEROS AÑOS BÁSICOS - SEMANAS 35 Y 36

Nombre: \_\_\_\_\_

Curso: 1° \_\_\_\_\_

Fecha: jueves 26 noviembre de 2020

### Objetivo de aprendizaje:

Cantar al unísono y tocar instrumentos de percusión convencionales y no convencionales (OA 4)  
Reproducen patrones rítmicos con instrumentos de percusión.

Escuchar cualidades del sonido (altura, timbre, intensidad, duración) y elementos del lenguaje musical (pulsos, acentos, patrones, secciones) y representarlos de distintas formas (OA 1)

• **INDICACIONES:** Escucha o lee atentamente cada enunciado y responde marcando con una X la alternativa correcta.

### 1. ¿Qué es el ritmo?

- a) Un baile
- b) Una canción
- c) Una combinación de sonidos y silencios

### 2. ¿Qué elementos musicales se encuentran en la imagen?



- a) Un pentagrama
- b) Un pentagrama, clave de Sol y figura musical
- c) Silencio de negra, Clave de Sol y espacios



NOMBRE	FIGURA	SILENCIO	DURACIÓN
Redonda			4 tiempos
Blanca			2 tiempos
Negra			1 tiempo
Corchea			1/2 tiempo
			 2 Corcheas - 1 tiempo



**¡Recordad!**

Las figuras indican la duración,  
la entonación depende del lugar  
que ocupen en el pentagrama.




**3. ¿Cuál se las figuras musicales de la imagen representan un tiempo mayor?**

- a) Negra
- b) Redonda
- c) Son iguales



**4. ¿Cuál se las figuras musicales de la imagen representan un tiempo mayor?**

- a) Negra
- b) Redonda
- c) Son iguales





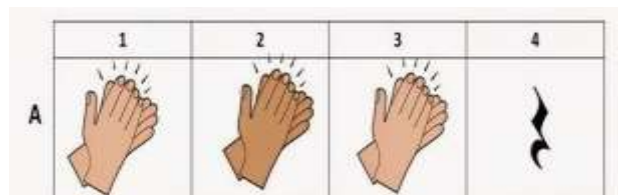
5. ¿Qué alternativa indica la figura musical del pentagrama?

- a) Blanca
- b) Negra
- c) Corchea




6. Si cada aplauso lo reemplazamos por una negra y sumamos el silencio ¿Cuántos tiempos tenemos?

- a) 2
- b) 4
- c) 6



7. ¿Qué figuras musicales muestra la imagen?

- a) Redonda y doble corchea
- b) Silencio de negra y negra
- c) Negra y doble corchea





**8. ¿Qué figuras musicales muestra la imagen?**

- a) Silencio de negra y negra
- b) Silencio de blanca y blanca
- c) Solo blancas



**9. ¿Qué figuras musicales muestra la imagen?**

- a) Negras y blancas
- b) Negras
- c) Solo doble corchea



**10. ¿Cuántos tiempos musicales muestra la imagen?**

- a) 1
- b) 2
- c) 3

