



Evaluación Formativa 2° Básico Artes Visuales

Semana 18 Del 27 al 31 de Julio


Nombre:	Fecha:	Curso:
Objetivo de Aprendizaje: Responder evaluación formativa OA 1: Expresar y crear trabajos de arte a partir de la observación del: • entorno natural: figura humana y paisajes chilenos • entorno cultural: personas y patrimonio cultural de Chile • entorno artístico: obras de arte local, chileno, latinoamericano y del resto del mundo. Comunicar y explicar sus impresiones de lo que sienten y piensan de obras de arte por variados medios. Observar y comunicar oralmente sus primeras impresiones de lo que sienten y piensan de obras de arte por variados medios. (Observar anualmente al menos 10 obras de arte local o chileno, 10 latinoamericanas y 10 de arte universal).		

Instrucciones:

A continuación, deberás leer y responder una evaluación formativa. Ésta es una evaluación que tiene el propósito de monitorear el proceso de aprendizaje de cada contenido y habilidad en las guías trabajadas. Por lo que, es importante responder de manera honesta e individualmente para conocer cuánto has progresado en tus aprendizajes. Además, se realizará una retroalimentación correspondiente que te ayudará a fortalecer tus conocimientos.

Lee atentamente cada enunciado y responde marcando la alternativa correcta.

Observa las formas que tiene este camión:



1. ¿Cuántos rectángulos tiene el camión?

- a) 4
- b) 5
- c) 3

2.- En la siguiente imagen ¿qué tipos de líneas hay?



- a) Líneas semicirculares.
- b) Sólo líneas rectas
- c) Sólo líneas curvas.


Observa la siguiente imagen:



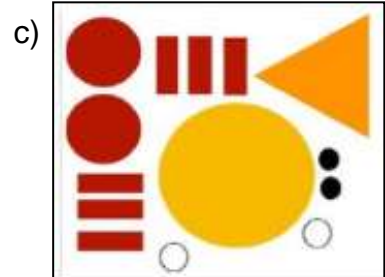


3.- ¿Cuántos círculos tiene la imagen?

- a) 5
- b) 3
- c) 8

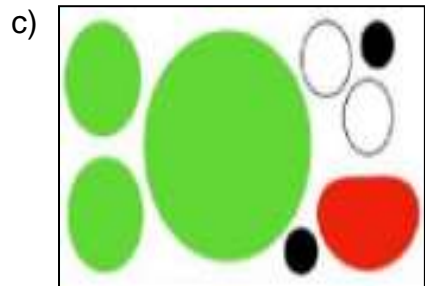
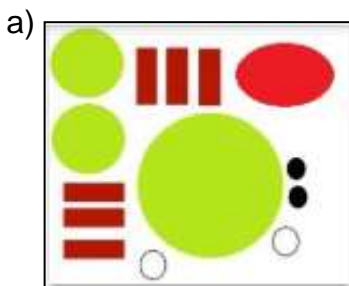
Para armar este ratón...




4.- ¿Qué grupo de figuras necesitas usar?



5.- Elige el grupo de figuras que necesitas usar para armar la ranita.



6.- ¿Cuál es el pez que se armó usando la técnica del Origami?



7.-Lee la siguiente adivinanza: "Soy una figura geométrica y mis 4 lados son iguales ¿quién soy?"

- a) Un rectángulo
- b) Un cuadrilátero
- c) Un cuadrado

8.- ¿En qué se parece un cuadrado y un rectángulo?



Rectángulo




Cuadrado

- a) Tienen la misma cantidad de lados.
- b) Tienen la misma forma.
- c) Tienen colores parecidos.

9.- ¿Qué diferencia hay entre este rectángulo y este cuadrado?



Rectángulo



Cuadrado

- a) El rectángulo tiene 2 lados más largos que el cuadrado.
- b) Tienen la misma cantidad de lados.
- c) Tienen el mismo color.

10.- ¿Cuál es la figura geométrica que más se repite en esta obra de Pablo Picasso?



- a) Los círculos.
- b) Los cuadrados.
- c) Los triángulos.