



EVALUACIÓN FORMATIVA DE ARTES VISUALES SEGUNDOS AÑOS BÁSICOS

Nombre: _____

Curso: 2° _____

Fecha: _____ de octubre, 2020

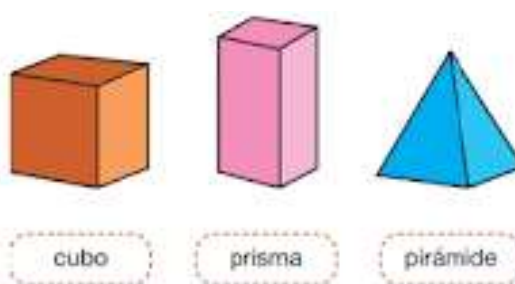
Objetivo de aprendizaje: OA1 Expresar y crear trabajos de arte a partir de la observación del entorno cultural. Observan, describen, comparan figuras 3D (prismas, pirámides, cilindros, conos, esferas) con material concreto y reciclado.

OA4 Describir sus observaciones de obras de arte y objetos, usando elementos del lenguaje visual y expresando lo que sienten y piensan.

- **INDICACIONES:** Escucha o lee atentamente cada enunciado y responde marcando con una X la alternativa correcta.

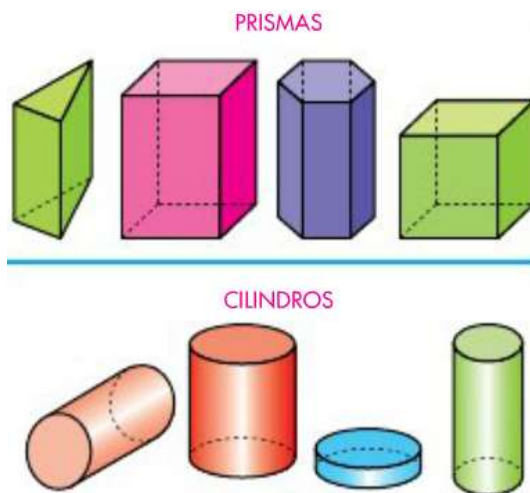
1. Observa la imagen ¿Qué nombre tienen estas formas?

- A. Formas planas.
- B. Figuras 3D
- C. Figuras con caras planas.



2. ¿Cuál de estas formas son las que tienen caras curvas?


- A. Los Prismas.
- B. Los Cilindros.
- C. Ninguna de las formas tiene caras planas.





3. Anita hizo un dibujo de un camión y quiere construirlo con envases y elementos encontrados en su casa. ¿Qué envases debería buscar?

- A. Cajas de remedios y tapas de bebidas.
- B. Un tarro metálico y lanas.
- C. Tubos de cartón y plasticinas.



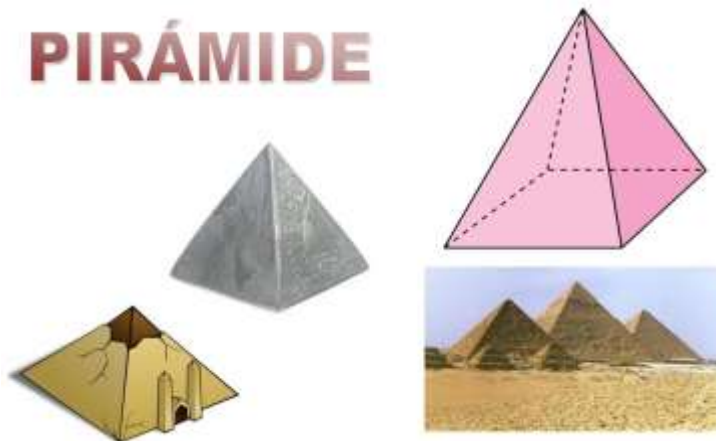
4. ¿Cuál de los siguientes objetos tiene la forma de un cubo?



- A) La carpa.
- B) El ladrillo.
- C) Los dados.

5.- Según la imagen de la pirámide ¿Cuántas caras tiene?

- a) 5
- b) 8
- c) Las pirámides no tienen caras.



6.- ¿Cuál de los siguientes objetos tiene la forma de una esfera?



- A) La naranja.
- B) La vela.
- C) El helado.



7.- Al observar la imagen de la Torre Entel que está en la ciudad de Santiago, ¿Qué cuerpos geométricos utilizaron los arquitectos para construirla?

- A. Usaron pirámides y conos.
- B. Usaron sólo cilindros y cubos.
- C. Usaron cilindros y un prisma.



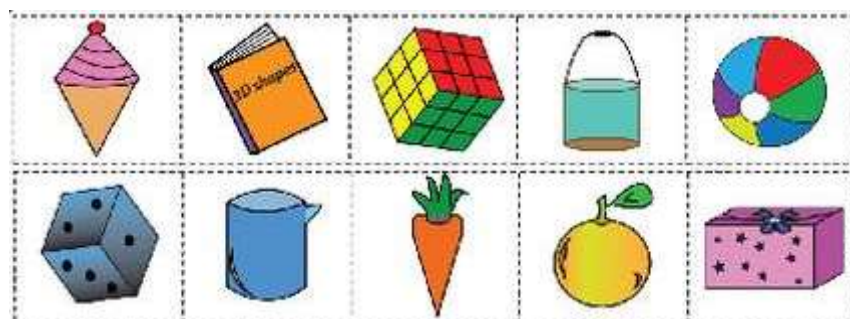
8.- Este es el castillo que construyó Belén Valenzuela del 2ºD. ¿Qué cuerpos geométricos son lo que utilizó?

- A) Pirámides y cubos.
- B) Cilindros y conos
- C) Prismas y esferas.



9.- ¿Cuántos de estos objetos tienen caras planas?

- A) 6
- B) 4
- C) 10





10.- ¿Cuál de los siguientes objetos tiene la forma de un cono?



- A) El tarro.
- B) La caja.
- C) El rallador.