



## EVALUACIÓN FORMATIVA DE ARTES VISUALES SEGUNDOS AÑOS BÁSICOS

Nombre: \_\_\_\_\_

Curso: 2° \_\_\_\_\_

Fecha: \_\_\_\_\_ de NOVIEMBRE, 2020

Objetivo de aprendizaje: OA1 Expresar y crear trabajos de arte a partir de la observación del entorno geométrico. Observan, describen, comparan obras de artes según sus tipos de líneas y colores. OA4 Describir sus observaciones de obras de arte y objetos, usando elementos del lenguaje visual.

- INDICACIONES: Escucha o lee atentamente cada enunciado y responde marcando con una X la alternativa correcta.

### 1.- ¿Qué pueblo moldeaba vasijas de greda?



- a) Los changos.
- b) Los diaguitas.
- c) Los Chonos.

### 2.- ¿Qué es un alfarero?



- a) Es una persona que hace recipientes y otros objetos de barro u otro material para moldear.
- b) Es una persona que vivió junto con los diaguitas.
- c) Es una persona que viaja en el tiempo para visitar a los pueblos originarios de Chile.

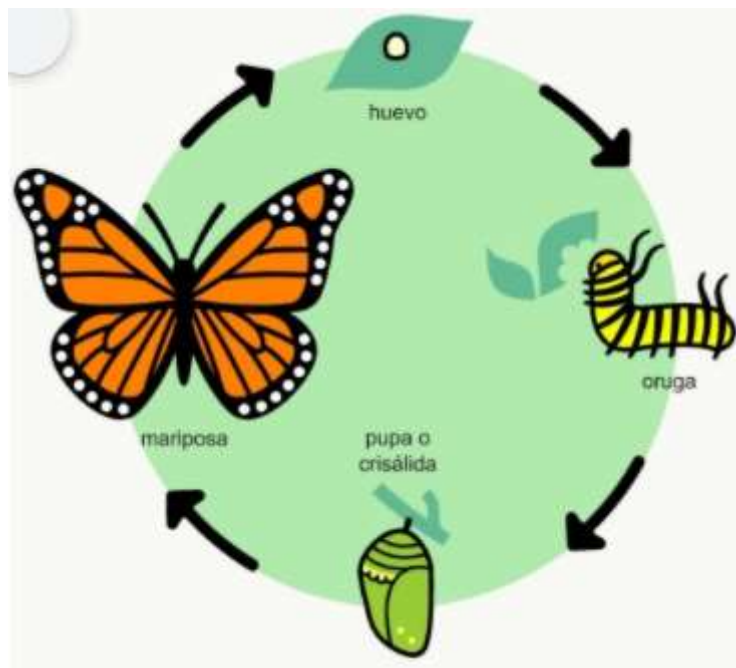


3.- ¿Qué colores usaban los Diaguitas para pintar sus vasijas?






- a) Rojo y café
- b) Rojo, café y azul
- c) Café, rojo, blanco y negro.

4.- Observa la imagen del ciclo de la mariposa:



¿En qué etapa del ciclo de vida, la mariposa se asemeja a un gusano?

- a) 
- b) 
- c) 



5.- ¿Por qué la pupa tendrá esa forma y color?

- a) Porque la mariposa tiene que estar apretada y sin respirar.
- b) Porque necesita estar protegida para transformarse y tener bellas alas.
- c) Porque no encontró otro lugar donde esconderse.



6.- ¿Qué material de la naturaleza usaban los diaguitas para moldear sus vasijas?



- a) Piedras.




- b) Barro.



- c) Hojas.

7.- ¿Qué técnica usaban los changos para construir sus embarcaciones?



- a) Se construían quemando el cuero de los animales.
- b) Se construían cociendo el cuero de ellos animales.
- c) Se construían inflando el cuero de los animales.



8.- A partir de la imagen ¿Cuáles son los tipos de líneas que usaban los Diaguitas para crear diseños en las vasijas?



- a) Triángulos
- b) Líneas rectas y curvas.
- c) Todas las anteriores.

9.- Según la imagen, ¿qué es un esquema?

- a) Un esquema es una forma sencilla y lógica de mostrar ideas o etapas de algún objeto.
- b) Un esquema es una forma de dibujar.
- c) Es una forma complicada de nombrar las partes de un insecto.

