



Colegio República Argentina
O'Carrol # 850- Fono 72- 2230332
Rancagua

TAREA MATEMATICA 2° BÁSICO SEMANA 13 y 14 DEL 22 DE JUNIO AL 3 DE JULIO

Nombre: CORRECCION	
Curso:	Fecha:
OA: Demostrar que comprende la adición y la sustracción en el ámbito del 0 al 100: usando un lenguaje cotidiano y matemático; resolviendo problemas con una variedad de representaciones concretas y pictóricas, de manera manual; registrando el proceso en forma simbólica.	

No imprimir

Instrucciones.

- Ubícate en un espacio ordenado y con buena iluminación.
- Revisa tu estuche, debe tener lápiz mina, lápiz bicolor, goma, sacapunta.
- Pídele a un adulto algún material de apoyo como (porotos, palitos de fósforos, u otro material) que te permita contar si lo necesitas
- Si no cuentas con las guías impresas, pídelo ayuda a un adulto y que te realice las representaciones en tu cuaderno de asignatura
- Recuerda trabajar de forma ordenada y si presentas alguna duda, consúltale a un adulto
- Recuerda enviar las fotografías o copia de la guía al correo de tu profesora

- ✓ 2°A katherine.rodriguez@colegio-republicaargentina.cl
- ✓ 2°B raquel.acevedo@colegio-republicaargentina.cl
- ✓ 2°C angelica.palma@colegio-republicaargentina.cl
- ✓ 2°D claudia.arias@colegio-republicaargentina.cl

¡ Éxito !



Desafío

¡¡¡Felicitaciones!!! Ya terminaste tu guía de trabajo te invito a realizar la siguiente actividad en la cual requieres mucha concentración e imaginación (Recuerda tener tu estuche y lápices de colores)

Haz los cálculos indicados en la figura y pinta de un mismo color de las partes donde obtuviste un mismo resultado


Claves

7 y 8 = morado

9 y 10 = café

13 y 14 = rojo

11 y 12 = amarillo



Acción de agregar o quitar

Observa y responde

Lee con atención

La bibliotecaria del colegio está ordenando los cuentos

Teníamos 40 cuentos y hoy agregare 18 cuentos nuevos

Del total de cuentos, quitaré 24 para prestarlos a los estudiantes de segundo básico



Responde las siguientes preguntas:

- ¿Habrá más o menos cuentos en la biblioteca cuando la bibliotecaria agregue los 18 cuentos nuevos?



Menos, porque está agregando más libros

- ¿Cómo podría la bibliotecaria calcular cuántos cuentos tendrá en total? Explicar.

Realizando una suma de los libros que hay y los que agregara

- ¿Habrá más o menos cuentos en la biblioteca cuando la bibliotecaria quite los cuentos que prestara a los estudiantes de segundo básico?

Más



, porque debe quitar de los que ya tiene

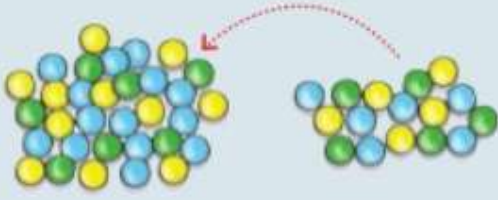
La **adición** y la **sustracción** se pueden relacionar con las acciones de agregar y quitar, respectivamente

Tenía 32 bolitas y me regalaron 16
¿Cuántas bolitas tengo en total?

Tenía 32 bolitas y le regale 11 a mi hermano
¿Con cuántas bolitas me quede?

La **adición** y la **sustracción** se pueden relacionar con las acciones de **agregar** y **quitar**, respectivamente.

Tenía 32 bolitas y me regalaron 16.
¿Cuántas bolitas tengo en total?



Agregar -----> Sumar

$$\begin{array}{r} 32 \\ + 16 \\ \hline 48 \end{array} \quad \Rightarrow \quad \begin{array}{l} 32 = 30 + 2 \\ 16 = 10 + 6 \\ \hline 40 + 8 = 48 \end{array}$$

Tenía 32 bolitas y le regalé 11 a mi hermano.
¿Con cuántas bolitas me quedé?




Quitar -----> Restar

$$\begin{array}{r} 32 \\ - 11 \\ \hline 21 \end{array} \quad \Rightarrow \quad \begin{array}{l} 32 = 30 + 2 \\ 11 = 10 + 1 \\ \hline 20 + 1 = 21 \end{array}$$

1.- Lee las situaciones y marca con una X la acción que corresponda

a) Ana había recolectado 15 hojas de árboles para sí muestrario y su compañero de puesto le regaló 12. ¿Cuántas hojas de árboles tiene en total ahora?

Quitar



Agregar

b) José tiene en su álbum 85 fotos. Si para una actividad escolar sacó 12, ¿Cuántas fotos quedaron en su álbum?



Quitar

Agregar