



Guía de trabajo semana 31-32 (del 26 de Octubre al 06 de Noviembre)

Nombres _____ Apellidos _____	Curso: 2° _____ Fecha: Semana 31 _____
Objetivos de aprendizaje: OA 18 Leer horas y medias horas en relojes digitales, en el contexto de la resolución de problemas.	

Esta hoja no es necesario imprimirla.

Instrucciones.

- ✓ Ubícate en un espacio ordenado y con buena iluminación.
- ✓ Revisa tu estuche, debe tener lápiz mina, lápiz bicolor, goma, sacapuntas.
- ✓ Recuerda trabajar de forma ordenada y si presentas alguna duda, consúltale a un adulto.



UNIDADES DE TIEMPO

El tiempo se mide con el reloj y con el calendario. Con el reloj medimos horas, minutos y segundos. En una hora hay 60 minutos y en un minuto 60 segundos.



*Observa las manecillas de cada reloj.



Las 10 en punto.

MANECILLAS Señalan


- corta → horas
- larga → minutos



Las 10 y media.

Practica


1.-Observa cada reloj y escribe la hora que marcan las manecillas. Pinta azul el horario y rojo el minuterero.



Son las _____ en punto



Son las _____ en punto




Son las _____ en punto



Son las _____ en punto



Son las _____ en punto




Son las _____ en punto

2.- Dibuja en cada reloj las manecillas según corresponda. puedes ayudarte de los colores utilizados en el ítem anterior



Son las cuatro en punto



Es la una en punto



Son las once en punto



Son las 7 en punto



Son las ocho en punto



son las dos en punto