



Guía de trabajo semana 33-34 (09 AL 20 de Noviembre)

Nombres _____ Apellidos _____	Curso: 2° _____ Fecha: SEMANAS 31 y 32 desde 9 al 20 de noviembre 2020
Objetivos de aprendizaje: OA 19 Determinar la longitud de objetos, usando unidades de medidas no estandarizadas y unidades estandarizadas (cm y m), en el contexto de la resolución de problemas.	

Esta hoja no es necesario imprimirla.


Instrucciones.

- ✓ Ubícate en un espacio ordenado y con buena iluminación.
- ✓ Revisa tu estuche, debe tener lápiz mina, lápiz bicolor, goma, sacapuntas.
- ✓ Recuerda trabajar de forma ordenada y si presentas alguna duda, consúltale a un adulto.



COMPARAR MEDIDAS

Camila cortó tres cintas de papel y las identificó con una letra.



RESPONDER:

1.) ¿Estás de acuerdo con Camila? Fundamenta tu respuesta

2) ¿Cómo puedes comprobar que la cinta A es la más larga?

Piensa una estrategia

3) Sigue las instrucciones para comprobar lo que dice Camila:

a) Usando una hoja de papel, marca y corta tres cintas del mismo tamaño que las de Camila.

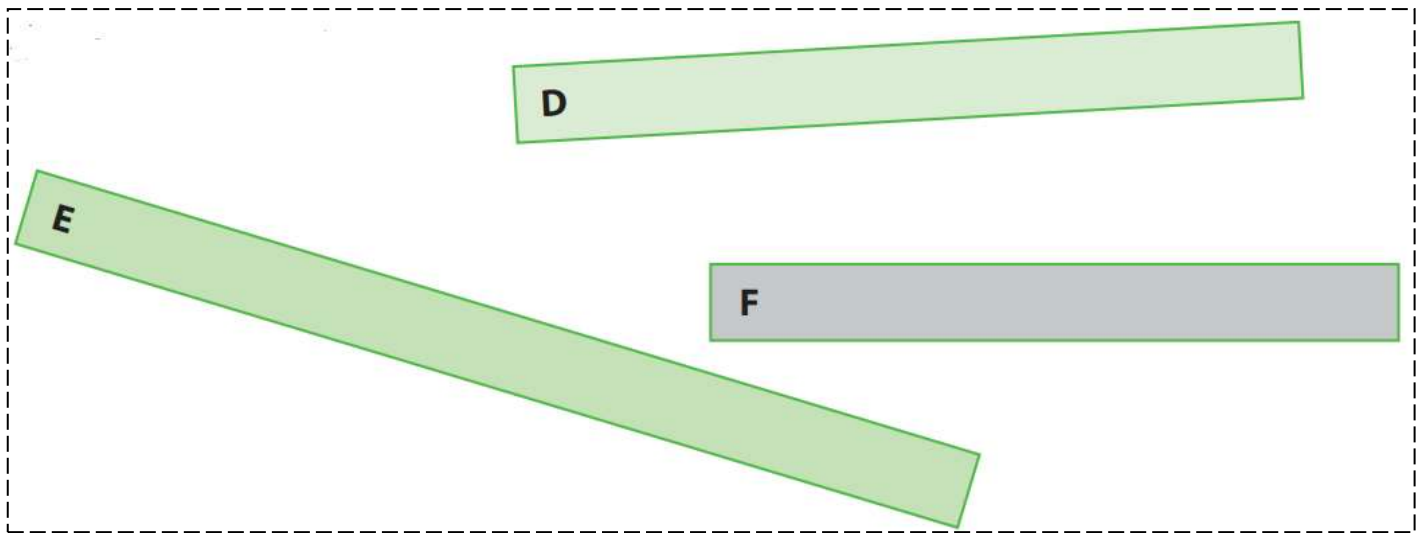
b) Escribe las letras sobre cada cinta de papel, como lo hizo Camila.

c) Pon una cinta sobre la otra y verifica cuál es la más larga.

Completa:

La cinta más larga es: _____ La cinta más corta es: _____

4) Observa y responde



a) Sin cortar las cintas, ¿se puede saber cuál es la más larga?


Explica tu respuesta.

Completa:


La cinta más larga es: _____ La cinta más corta es: _____

5. Lee atentamente la siguiente situación y resuelve:


La ranita quiere cruzar el río, pero no alcanza a hacerlo de un solo salto.





Ella quiere poner un tronco que le permita cruzar el río sin mojarse.
¡Ayúdala a elegir el tronco correcto!




Sigue las instrucciones:

- Corta un trozo de papel como el siguiente: 
- Usando el trozo de papel, mide los troncos y elige el que le sirve a la ranita para cruzar el río.

Tronco A 

Tronco B 

Tronco C 

Completa: El tronco que le sirve a la ranita es:

6) Usando el trozo de papel que cortaste en la actividad anterior, mide los siguientes objetos por donde indica la flecha y completa.



Este objeto mide unidades.



Este objeto mide unidades.

a) ¿Cuál objeto tiene mayor longitud?

b) ¿Cuál tiene menor longitud?
