









Guía Evaluada de Trabajo 11 Artes Musicales 2º Básicos




Nombres _____
Apellidos _____
Curso: _____ Fecha: _____ / _____ / _____

Objetivo: Conocer y clasificar instrumentos musicales de cuerda, percusión y viento. (O.A. 5)




1.- Observa las imágenes. Encierra y pinta la alternativa de la “familia” que consideres que pertenece cada instrumento: VIENTO – CUERDA – PERCUSIÓN:

<p>1.-</p>  <p>a) Viento b) Cuerda c) Percusión</p>	<p>2.-</p>  <p>a) Viento b) Cuerda c) Percusión</p>	<p>3.-</p>  <p>a) Viento b) Cuerda c) Percusión</p>
<p>4.-</p>  <p>a) Viento b) Cuerda c) Percusión</p>	<p>5.-</p>  <p>a) Viento b) Cuerda c) Percusión</p>	<p>6.-</p>  <p>a) Viento b) Cuerda c) Percusión</p>



<p>7.-</p>  <p>a)Viento b)Cuerda c)Percusión</p>	<p>8.-</p>  <p>a)Viento b)Cuerda c)Percusión</p>	<p>9.-</p>  <p>a)Viento b)Cuerda c)Percusión</p>
---	---	---

2. Identifica a que familia de instrumentos pertenecen los siguientes grupos de instrumentos musicales.

		
<p>Familia de</p>	<p>Familia de</p>	<p>Familia de</p>