









**Guía Evaluada de Trabajo 11 Artes Musicales 2º Básicos**




Nombres \_\_\_\_\_  
Apellidos \_\_\_\_\_  
Curso: \_\_\_\_\_ Fecha: \_\_\_\_\_ / \_\_\_\_\_ / \_\_\_\_\_

**Objetivo:** Conocer y clasificar instrumentos musicales de cuerda, percusión y viento. (O.A. 5)

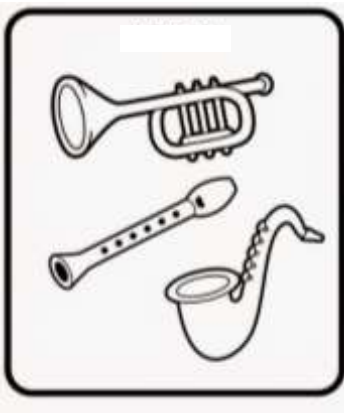


**1.- Observa las imágenes. Encierra y pinta la alternativa de la “familia” que consideres que pertenece cada instrumento: *VIENTO – CUERDA – PERCUSIÓN*:**

<p>1.-</p>  <p>a) Viento b) Cuerda c) <b><u>Percusión</u></b></p>	<p>2.-</p>  <p>a) <b><u>Viento</u></b> b) Cuerda c) Percusión</p>	<p>3.-</p>  <p>a) Viento b) <b><u>Cuerda</u></b> c) Percusión</p>
<p>4.-</p>  <p>a) Viento b) Cuerda c) <b><u>Percusión</u></b></p>	<p>5.-</p>  <p>a) <b><u>Viento</u></b> b) Cuerda c) Percusión</p>	<p>6.-</p>  <p>a) Viento b) <b><u>Cuerda</u></b> c) Percusión</p>



7.-  a) Viento b) Cuerda <b>c) <u>Percusión</u></b>	8.-  a) Viento <b>b) <u>Cuerda</u></b> c) Percusión	9.-  <b>a) <u>Viento</u></b> b) Cuerda c) Percusión
--	--	--

2. Identifica a que familia de instrumentos pertenecen los siguientes grupos de instrumentos musicales.

		
Familia de VIENTO	Familia de CUERDA	Familia de PERCUSIÓN

Adivinanzas:

A Batería	B Guitarra	C Flauta	D Campana
E Piano	F Xilófono	G Acordeón	H Triángulo

