




TAREA TECNOLOGÍA 2° BÁSICO SEMANA 35 y 36




Nombres _____	Curso: 2° _____
Apellidos _____	Fecha: Semana 35 y 36 del 23 de noviembre al 4 diciembre
Objetivo de aprendizaje: Crear diseños de objetos tecnológicos, representando sus ideas a través de dibujos a mano alzada o modelos concretos, desde ámbitos cercanos y tópicos de otras asignaturas, con orientación del profesor (OA1)	

Según lo aprendido en clases y lo practicado con el reloj que confeccionaste responde, encerrando la alternativa correcta.

1. ¿Qué reloj marca las 11:30?



2. ¿Qué reloj indica las 08:00?



3. ¿Cuál es el uso del reloj?

- Para saber en qué día vivimos
- Para ubicarnos en un lugar
- Es un instrumento para medir el tiempo



Lee la hora que marca cada reloj analógico y une con el reloj digital que le corresponde

