



## GUÍA DE HISTORIA 3° BÁSICO SEMANA 18

### DEL 27 AL 31 DE JULIO

Nombre:

Curso:

Fecha:

**OA 6:**

**Ubicar personas, lugares y elementos en una cuadrícula, utilizando líneas de referencia y puntos cardinales. Reconocer continentes y océanos.**

**OA 7: Distinguir hemisferios, círculo del Ecuador, trópicos, polos, continentes y océanos del planeta en mapas y globos terráqueos.**

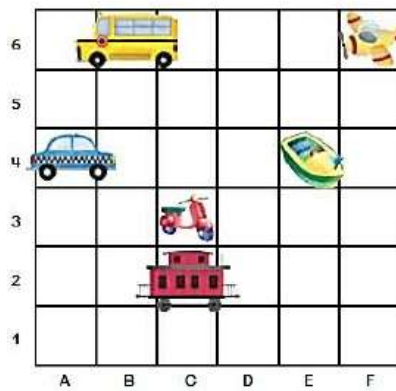
**OA 8: Identificar y ubicar en mapas las principales zonas climáticas del mundo y dar ejemplos de distintos paisajes que pueden encontrarse en estas zonas.**

**BASADO EN OA 9:**

**Caracterizar el entorno geográfico de las civilizaciones griega y romana, utilizando vocabulario geográfico adecuado (continente, valle, montaña, océano, río, archipiélago, mares, península, ciudad, construcciones y monumentos, entre otros)**

- I. A continuación, encontrarás una serie de preguntas con alternativas, **no es necesario imprimir este material** pues al final de la guía encontrarás la forma en qué necesitamos respuestas en tu cuaderno. En el mismo cuaderno puedes desarrollar los ejercicios que necesites.

Observa la imagen y responde las preguntas 1 y 2



1. ¿En qué cuadrícula se encuentra la **moto**?

- A. A,1
- B. E,1
- C. C,3
- D. D,5

2. ¿En qué cuadrícula se encuentra el **taxi**?

- A. A,4
- B. E,1
- C. C,6
- D. D,5



Observa la imagen y responde las preguntas 3 y 4



**Simbología**



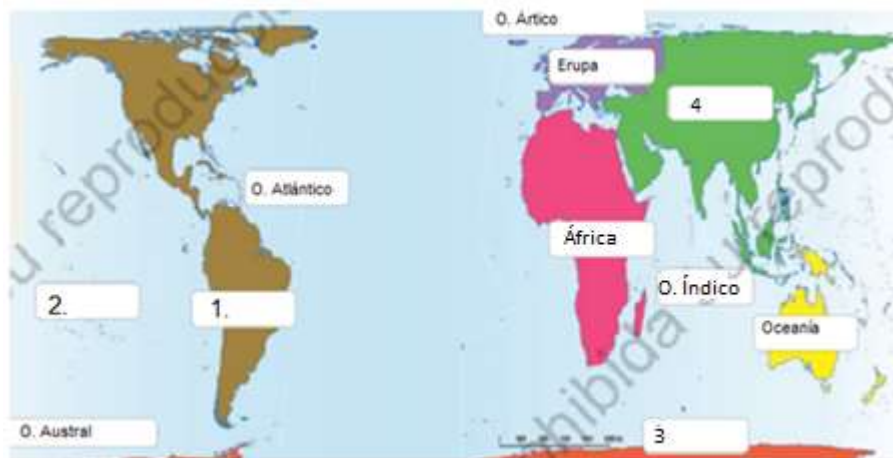
3. ¿Qué lugar se encuentran al **sur de la iglesia**?

- A. Mi casa
- B. El banco
- C. El supermercado
- D. La biblioteca

4. ¿Qué lugar se encuentra al **este del correo**?

- A. El supermercado
- B. El banco
- C. La estación de servicio
- D. Todas las anteriores

Observa el planisferio y responde las preguntas desde la número 5 a la 12



5. ¿Qué continente u océano corresponde el número 1 del planisferio?

- A. América
- B. África.
- C. Océano Pacífico
- D. Océano Índico.

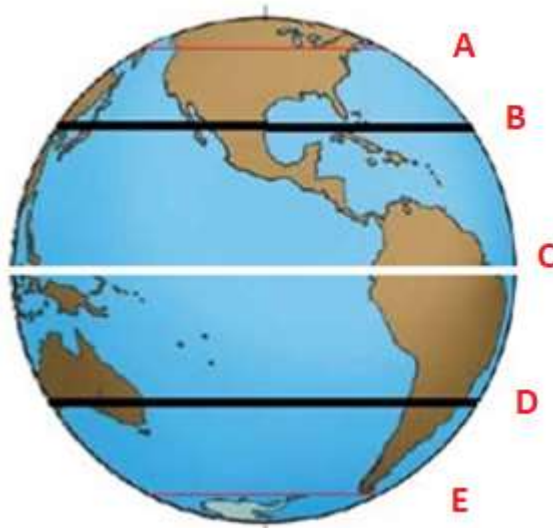
6. ¿Qué continente u océano corresponde el número 2 del planisferio?

- A. América
- B. África
- C. Océano Pacífico
- D. Océano Índico



<p>7. ¿Qué continente u océano corresponde el número 3 del planisferio?</p> <p>A. América B. África. C. Antártida. D. Océano Índico.</p>	<p>8. ¿Qué continente u océano corresponde el número 4 del planisferio?</p> <p>A. Asia. B. África. C. Océano Pacífico D. Océano Índico.</p>
<p>9. ¿En qué continente se encuentra ubicado Chile?</p> <p>A. Asia B. África C. América D. Europa.</p>	<p>10. De los siguientes océanos, ¿Cuál baña las costas del lado Oeste de América y por consecuencia las costas de Chile?</p> <p>A. Océano Pacífico B. Océano Atlántico C. Océano Antártico D. Océano Índico</p>
<p>11. ¿Cuál de las siguientes alternativas muestra un continente ubicado sólo en el hemisferio sur?</p> <p>A. Europa. B. África C. Oceanía D. América</p>	<p>12. ¿En qué hemisferio se encuentra Europa?</p> <p>A. Hemisferio Norte B. Hemisferio Sur C. Hemisferio Oeste D. Ninguna de las anteriores.</p>

- Observa la siguiente imagen que representa las líneas de referencia de la Tierra y responde las preguntas del número 13 a la 17

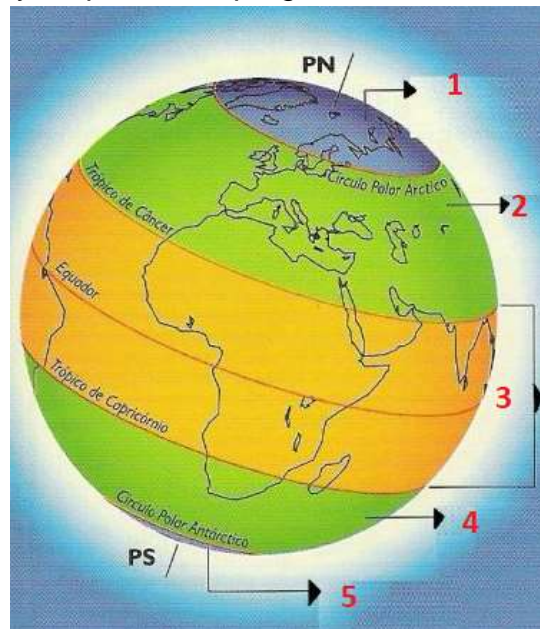


<p>13. ¿Cuál de las siguientes letras corresponde a la Línea del ecuador?</p> <p>A. Letra A B. Letra B C. Letra C D. Letra D</p>	<p>14. La letra B corresponde a:</p> <p>A. Trópico de Cáncer B. Trópico de Capricornio C. Círculo Polar Antártico D. Círculo Polar Ártico.</p>
--	--



<p>15. ¿Qué líneas de referencia se ubican en el hemisferio norte?</p> <p>A. Círculo Polar Ártico y Trópico de capricornio B. Círculo Polar Antártico y Trópico de Cáncer C. Círculo Polar Ártico y Trópico Cáncer D. Ninguna de las anteriores.</p>	<p>16. La letra D Corresponde a:</p> <p>A. Trópico de Cáncer B. Trópico de Capricornio C. Círculo Polar Antártico D. Círculo Polar Ártico.</p>
<p>17. La definición “Se refiere a las condiciones de la atmósfera en un momento y lugar determinado”, corresponde a:</p> <p>A. Clima B. Tiempo C. Zona Climática D. Paisaje</p>	


- Observa la imagen y responde las preguntas desde la 18 a la 21




<p>18. ¿A qué zona climática corresponde el número 2?</p> <p>A. Zona cálida. B. Zona fría del norte. C. Zona templada del sur. D. Zona templada del norte.</p>
<p>19. ¿Dónde está ubicada la zona templada del sur?</p> <p>A. Entre el círculo polar Antártico y el trópico de Capricornio B. Entre el trópico de Cáncer y el trópico de Capricornio. C. Al lado del círculo polar antártico D. Ninguna de las anteriores.</p>



<p>20. ¿Por qué la zona cálida tiene temperaturas más altas que las otras zonas climáticas?</p> <p>A. Porque absorbe los rayos del sol de manera indirecta. B. Porque recibe lluvias durante todo el año. C. Porque los rayos de Sol llegan de forma directa. D. Porque las cuatro estaciones tienen la misma duración.</p>	<p>21. ¿A qué zona climática corresponde el número 5?</p> <p>A. Zona cálida. B. Zona fría del norte. C. Zona fría del sur. D. Zona templada del norte.</p>
---	--

<p>22. Observa la imagen,</p> 	<p>¿A qué paisaje corresponde la siguiente imagen?</p> <p>A. Paisaje de alta montaña. B. Paisaje desértico. C. Paisaje tropical. D. Paisaje bosque.</p>
--	---

<p>23. Observa la imagen:</p> 	<p>¿A qué paisaje corresponde la siguiente imagen?</p> <p>A. Paisaje de selva B. Paisaje desértico. C. Paisaje de estepa cálida D. Paisaje de taiga</p>
---	---

<p>24. En las zonas templadas se presentan mejores condiciones para la vida de los seres humanos porque:</p> <p>A. La vegetación es muy escasa permitiendo cultivar la tierra. B. Existe una variedad de vegetación y temperaturas más moderadas. C. Durante todo el año predomina el calor lo que permite el crecimiento de las plantas. D. Se desarrolla una exuberante vegetación que proporciona muchos alimentos.</p>
--



- Observa la imagen y responde las preguntas 25, 26, 27 y 28



<p>25. ¿A qué península corresponde el número 1?</p> <p>A. Península Itálica. B. Península de los Balcanes. C. Península Mesopotámica. D. Ninguna de las anteriores.</p>	<p>26. ¿A qué península corresponde el número 2?</p> <p>A. Península Itálica. B. Península de los Balcanes. C. Península Mesopotámica. D. Ninguna de las anteriores.</p>
<p>27. ¿Qué Mar bañaba las costas de la civilización griega y romana?</p> <p>A. Mar Negro. B. Mar Egeo. C. Mar Mediterráneo. D. Mar del Tíbet.</p>	<p>28. ¿A qué espacio geográfico corresponde el número 3?</p> <p>A. Montaña B. Isla C. Archipiélago D. Península.</p>
<p>29. De acuerdo a lo estudiado ¿Cuál fue la importancia del mar Mediterráneo?</p> <p>A. Tenía hermosas playas. B. Conectar los continentes. C. Fue el mar más azul del planeta. D. Ninguna de las anteriores.</p>	<p>30. ¿Cuál (es) de la (s) siguiente (s) alternativas corresponde a característica(s) del mar Mediterráneo?</p> <p>A. Es un mar complejo. B. Está partido (dividido) por islas C. Está interrumpido por penínsulas D. Todas las anteriores</p>



Instrucciones para la resolución.

En el cuaderno de Matemática, escribe el número de la pregunta y solo la letra de la alternativa correcta.

Si necesitas resolver puedes utilizar el mismo cuaderno.

Nombre: \_\_\_\_\_

Asignatura: \_\_\_\_\_ Curso: \_\_\_\_\_ Fecha : \_\_\_\_\_

Pregunta 1: \_\_\_\_

Pregunta 2: \_\_\_\_

Pregunta 3: \_\_\_\_

Pregunta 4: \_\_\_\_

Pregunta 5: \_\_\_\_

Pregunta 6: \_\_\_\_

Pregunta 7: \_\_\_\_

Pregunta 8: \_\_\_\_

Pregunta 9: \_\_\_\_

Pregunta 10: \_\_\_\_

Pregunta 11: \_\_\_\_

Pregunta 12: \_\_\_\_

Pregunta 13: \_\_\_\_

Pregunta 14: \_\_\_\_

Pregunta 15: \_\_\_\_

Pregunta 16: \_\_\_\_

Pregunta 17: \_\_\_\_

Pregunta 18: \_\_\_\_

Pregunta 19: \_\_\_\_

Pregunta 20: \_\_\_\_

Pregunta 21: \_\_\_\_

Pregunta 22: \_\_\_\_

Pregunta 23: \_\_\_\_

Pregunta 24: \_\_\_\_

Pregunta 25: \_\_\_\_

Pregunta 26: \_\_\_\_

Pregunta 27: \_\_\_\_

Pregunta 28: \_\_\_\_

Pregunta 29: \_\_\_\_

Pregunta 30: \_\_\_\_

