



EVALUACIÓN FORMATIVA DE ARTES VISUALES CUARTOS AÑOS BÁSICOS

Nombre: _____

Curso: 4° _____


Fecha: _____ de octubre, 2020

Objetivo de aprendizaje: Expresar y crear trabajos de arte a partir de la observación del: entorno natural: paisaje, animales y plantas; entorno cultural: vida cotidiana y familiar
OA4 Describir sus observaciones de obras de arte y objetos, usando elementos del lenguaje visual y expresando lo que sienten y piensan.


- **INDICACIONES:** Escucha o lee atentamente cada enunciado y responde marcando con una X la alternativa correcta.

1. Observa la imagen ¿Qué característica tiene la imagen que acabas de observar?

- A. Es un ejemplo de rotación.
- B. Es una representación de simetría
- C. Es una imagen de figura 3D.
- D. Es una representación asimétrica o sin eje de simetría.



2. La profesora de artes pidió a dos de sus estudiantes que dieran una característica de la siguiente imagen:



- María dijo que la imagen representada era una reflexión porque el lado izquierdo de la mariposa se refleja al lado derecho.
- Paula dijo que la imagen era un ejemplo de simetría vertical porque la imagen se divide en dos mitades exactamente iguales

¿Qué estudiante está en lo correcto?

- A. Sólo María
- B. Sólo Paula
- C. Ambas están en lo correcto
- D. Ninguna está en lo correcto.



3. ¿Cuál de los siguientes dibujos corresponde a una reflexión?

1.



2.-



3.-




4.-




- A) Sólo 3.
- B) Las imágenes 1 y 4 presentan reflexión.
- C) Sólo la imagen 2 demuestra reflexión.
- D) Todas las imágenes presentan reflexión.

4. ¿Cuál de las siguientes alternativas es un ejemplo de reflexión?


A.




B.



C.


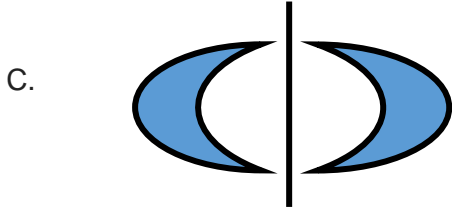
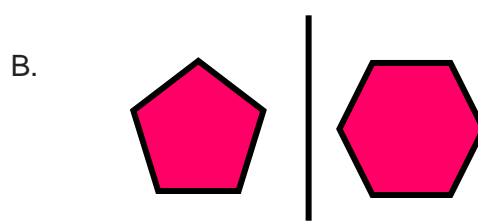
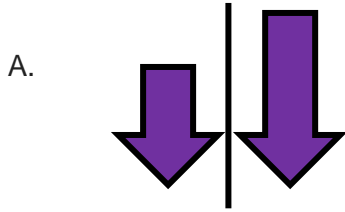


D.



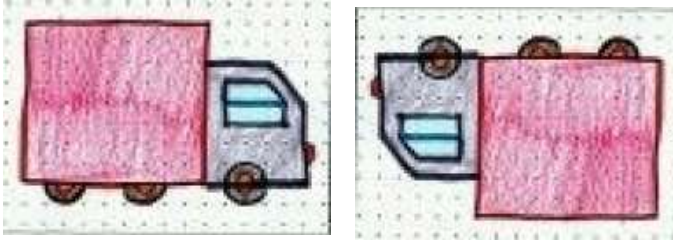


5. ¿En cuál de los siguientes ejemplos existe reflexión?

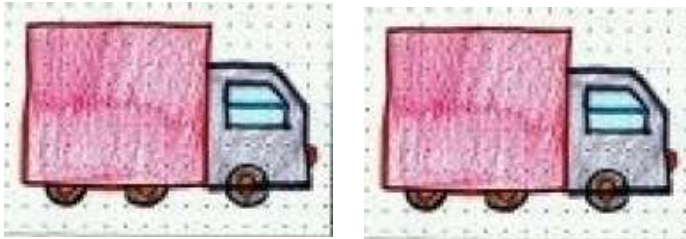


6. Anita hizo un dibujo ejemplificando la reflexión ¿Qué alternativa corresponde al dibujo hecho por Anita?

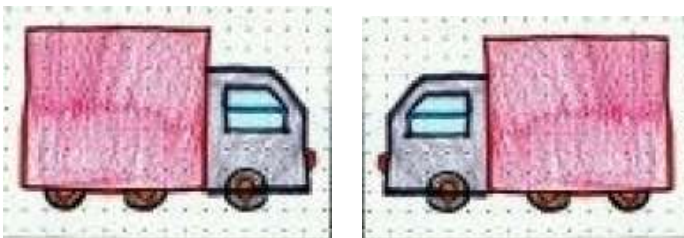
A.



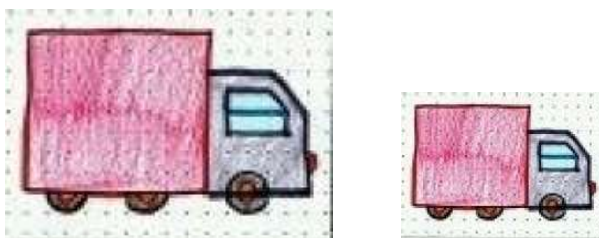
B.



C.



D.





7. Al observar la obra realizada por la profesora de Artes podemos apreciar que:




- A. La artista se inspiró sólo en un árbol para reflejar en su obra.
- B. La artista usó colores fríos para dar color a su pintura.
- C. La artista usó la reflexión del agua para inspirarse en su creación.
- D. La artista se inspiró en un paisaje cultural para crear su obra.

8. ¿En cuál de las siguientes figuras se puede trazar 4 ejes de simetría?


A.



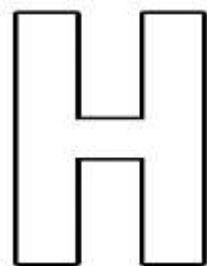
B.



C.



D.





9. Observa el siguiente plegado. ¿Qué conocimiento de la geometría se aplicó para poder crear este plegado?

- A. Clasificación de triángulos.
- B. Eje de simetría vertical.
- C. Colores fríos y cálidos.
- D. Rotación.

