

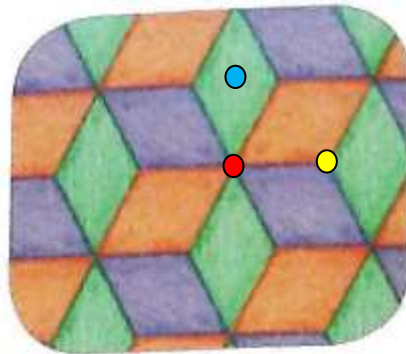


**TAREA DE ARTES VISUALES 4° AÑOS BÁSICOS:** Semanas 29 y 30

[ana.nunez@colegio-republicaargentina.cl](mailto:ana.nunez@colegio-republicaargentina.cl)

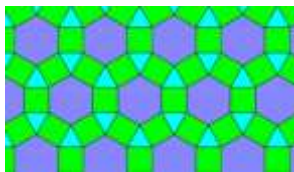
Responde en tu cuaderno de arte marcando sólo la alternativa.

**Tiquet de salida**




- 1) ¿Cuál es el punto en dónde se realiza la rotación correctamente?
  - a) En el punto azul.
  - b) En el punto amarillo.
  - c) En el punto rojo.
  - d) En el punto rojo y amarillo se produce una rotación.


- 2) ¿Cuál de estas teselaciones tiene rotación?



1



2



3

- a) Sólo 1
  - b) Sólo 2
  - c) 1 y 2
  - d) 2 y 3
- 3) ¿Cuál es la característica principal de una teselación?
    - a) Las figuras se repiten sin dejar espacios entre ellas.
    - b) Las figuras se repiten sobrepuestas unas con otras.
    - c) Son figuras geométricas con muchos colores.
    - d) Las figuras que se repiten siempre deben tener un triángulo.

Recuerda que debes enviar las respuestas de tareas y trabajos a través de una fotografía al correo de la profesora de la asignatura de Artes Visuales.

Si la estudiante no tiene la posibilidad de internet, deberá adjuntar sus trabajos y presentarlos en el momento de volver a clases.

Puedes autoevaluarte con la pauta que está al final de la página lo que te permitirá revisar tu trabajo y evaluar si cumpliste el objetivo y permitir corregir si es necesario.

| <b>Ficha descriptiva de</b>   | <b>Si<br/>2pt</b> | <b>No<br/>0pts</b> |
|---|-------------------|--------------------|
| 1.- ¿Realizaste una línea curva e irregular en el triángulo equilátero?                                     |                   |                    |
| 2.- ¿Recortaste por la línea marcada?   |                   |                    |
| 3.- ¿Trasladaste el recorte al otro extremo del triángulo?  |                   |                    |
| 4.- ¿Pegaste con cinta adhesiva ambas piezas?   |                   |                    |
| 5.- ¿Fijaste un punto en el centro de la hoja de block y remarcaste la forma rotándolo?                     |                   |                    |
| 6.- ¿Completaste toda la hoja de block con el patrón de rotaciones?   |                   |                    |
| 7. ¿Creaste un patrón de diseño que ayuda a distinguir el movimiento de rotación usando lápices de colores? |                   |                    |
| <b>Total</b>  |                   |                    |
| <b>Puntaje</b>  | <b>14 pts</b>     |                    |
| <b>Nivel de logro</b>   | <b>100%</b>       |                    |

- Si obtuviste entre 1 y 9 puntos en tu pauta, tu desempeño es no logrado, pero no te desamines, debes seguir esforzándote para lograr el objetivo planteado y mejorar tu desempeño.
- Si obtuviste entre 9 a 11 puntos en tu pauta, tu desempeño es medianamente logrado, por lo que debes esforzarte un poco más y para alcanzar el objetivo planteado y mejorar tu desempeño.
- Si obtuviste entre 12 y 14 puntos en tu evaluación, tu desempeño es logrado. ¡Felicitaciones!