



Evaluación Formativa de Historia, Geografía y Ciencias Sociales Semana N°18

Curso: 5º AÑO A-B-C-D

Fecha: Semana 18 Del 27 al 31 de Julio

Correos: Katherine.rodriguez@colegio-republicaargentina.cl

Nathaly.hormazabal@colegio-republicaargentina.cl

Nombre:

Curso: 5ºA – B – C - D

Fecha :

OA9: Caracterizar la zona central considerando ubicación, hidrografía, clima, relieve, flora y fauna, actividades económicas y macroformas por medio de la lectura de fuentes respondiendo preguntas del tema.

Lee comprensivamente cada pregunta y marca la alternativa que consideres correcta.

1. ¿Cuál es el orden correcto de las zonas naturales de Chile?

- a) Zona Austral, Zona Sur, Zona Central, Norte Chico, Norte Grande.
- b) Norte Chico, Norte Grande, Zona Central, Zona Austral, Zona Sur.
- c) Norte Grande, Norte Chico, Zona Central, Zona Sur, Zona Austral.
- d) Norte Grande, Norte Chico, Zona Central, Zona Austral, Zona Sur.

Lee atentamente y responde las preguntas 2 y 3.

“Esta zona, de clima mediterráneo, como otras similares dispersas en los distintos continentes, se puede definir como un área ubicada entre los 30° y 40° de latitud, donde las lluvias caen cada año en la época invernal y en que durante el verano hay una larga temporada de sequía. Un año en la región de clima mediterráneo es aquel que empieza con verano seco y caluroso, al que sigue un otoño en que las temperaturas disminuyen y comienzan algunas escasas precipitaciones. El invierno, particularmente en los meses de julio y agosto, es lluvioso y frío. Las temperaturas empiezan a subir por primavera; las lluvias tienden a disminuir y casi con absoluta seguridad puede disponerse de un hermoso día de sol para un picnic al aire libre entre los meses de noviembre a marzo”

Fuente: Hoffman, A. Flora silvestre de Chile, (1978). Santiago: Editorial Lord Cochrane



2. ¿Qué zona de Chile está descrita en el texto?

- a) Zona Norte Grande
- b) Zona Norte Chico
- c) Zona Central
- d) Zona Austral

3. ¿Cómo es el invierno en el clima descrito?

- a) Templado y lluvioso.
- b) Frío y lluvioso.
- c) Cálido y frío.
- d) Frío y nevoso.

Observa la imagen y responde las preguntas 4 y 5.



4. ¿A qué Zona de nuestro país corresponde este paisaje?

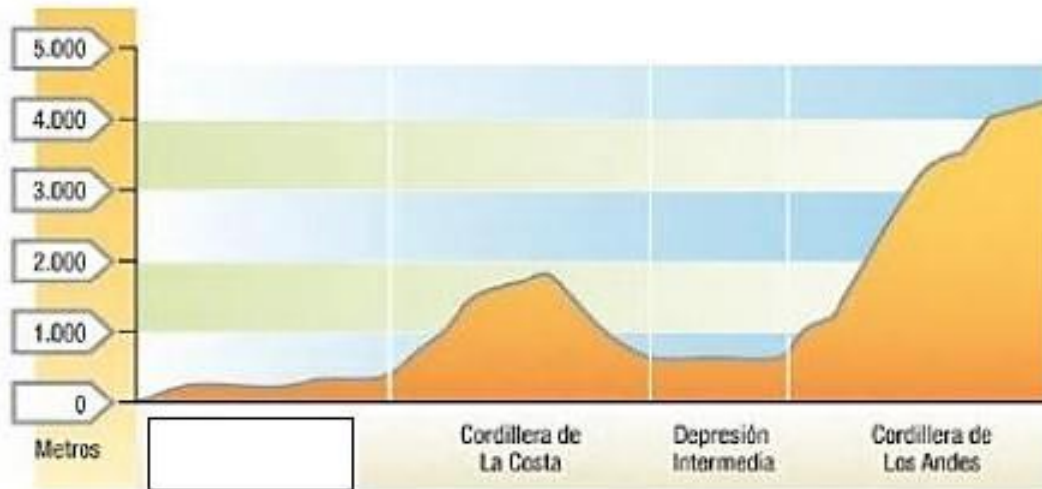
- a) Zona Norte Grande.
- b) Zona Centro.
- c) Zona Sur.
- d) Zona Austral.



5. ¿Qué forma de relieve se presenta en la imagen anterior?

- a) Altiplano.
- b) Farellón Costero.
- c) Valle Transversal.
- d) Canales australes.

Observa el perfil y responde las preguntas 6 y 7.



6. ¿A qué zona geográfica pertenece el perfil topográfico?:

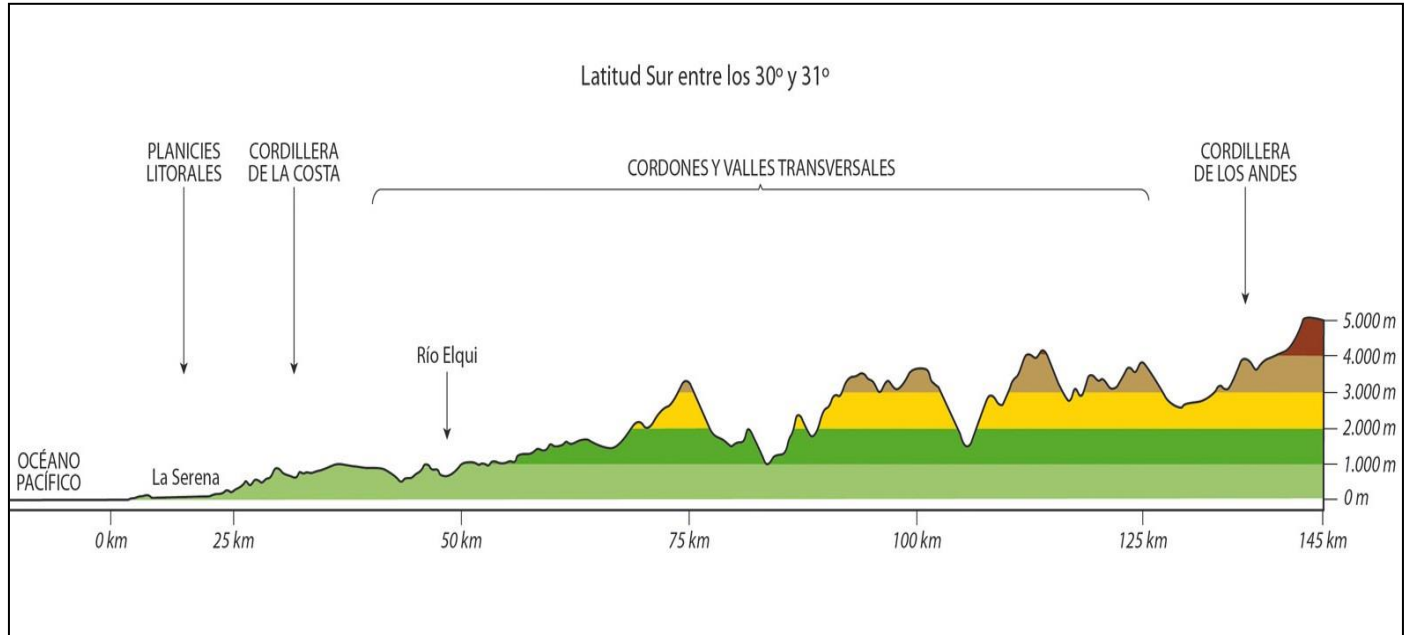
- a) Zona Norte Grande.
- b) Zona Central.
- c) Zona Sur.
- d) Zona Austral.

7. ¿Qué forma de relieve falta en el espacio en blanco?

- a) Farellón costero.
- b) Valle transversal.
- c) Precordillera.
- d) Planicie litoral.



Observa la imagen y responde la pregunta 8.



8. ¿A qué Zona natural de nuestro país corresponde esta macroforma?

- a) Zona Norte Chico.
- b) Zona Central.
- c) Zona Sur.
- d) Zona Austral.

9. “El clima es frío, con bajas temperaturas durante la mayor parte del año; es muy frecuente la presencia de heladas y nieve” De acuerdo a la descripción, este clima corresponde a la zona:

- a) Zona Norte
- b) Zona Austral.
- c) Zona Central.
- d) Zona Sur.



Observa el mapa y responde las preguntas 10 y 11.

10. ¿Cuál es la zona natural que se encuentra marcada en el mapa?

- a) Zona Norte Grande.
- b) Zona Norte Chico.
- c) Zona Sur.
- d) Zona Austral.

11. ¿Qué regiones componen la zona marcada en el mapa?

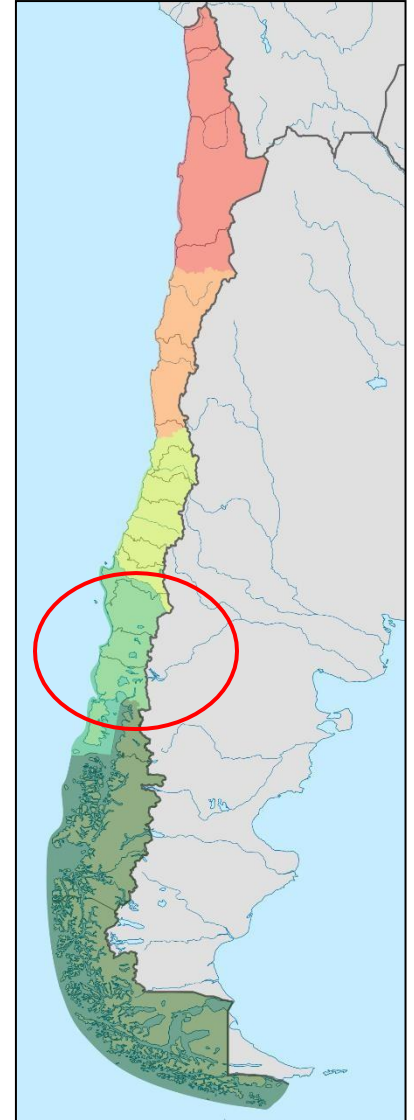
- a) IX – XIV - X
- b) XV – I - II
- c) XI - XII
- d) III - IV

12. En la Zona Austral, la Cordillera de los Andes al llegar al paso de Drake, se hunde bajo el mar y reaparece en la Antártica, tomando el nombre de:

- a) Cordillera Patagónica.
- b) Cordillera Pelada.
- c) Cordillera de Nahuelbuta.
- d) Antartandes.

13. La Zona Central de Chile se caracteriza por:

- I. La mayor concentración de habitantes.
 - II. Por sus puertos pesqueros.
 - III. Por su gran cantidad de servicios y fábricas.
- a) I – III
 - b) II – III
 - c) Sólo I
 - d) I – II - III





Observa la imagen y responde las preguntas 14 y 15.



14. ¿En qué Zona natural del país, encontramos este árbol nativo?

- a) Zona Norte Grande.
- b) Zona Norte Chico.
- c) Zona Central.
- d) Zona Sur.

15. ¿Qué pueblo originario podemos encontrar habitando esta zona?

- a) Aymaras.
- b) Rapanuis.
- c) Mapuches.
- d) Atacameños.