



GUIA ACTIVIDADES 6° BÁSICO

Razones

Nombre:

Curso: 6° Años Fecha: Semana 13 y 14 del 22 de junio al 03 julio 2020

Objetivo de Aprendizaje: Demostrar que comprende el concepto de razón de manera concreta, pictórica y simbólica. OA 3

Anímate a desarrollar esta guía que te servirá de retroalimentación.

• **Instrucciones:**

A partir de las explicaciones dadas anteriormente en el archivo objetivo, resuelve cada uno de los siguientes ejercicios en tu cuaderno.

Frente a cualquier inquietud, no dudes en consultar por los medios de comunicación que dispongas.

1. **Simplifica las siguientes razones:**

A. $15 : 30 =$

B. $12 : 24 =$


C. $10 : 100 =$

D. $25 : 50 =$

E. $30 : 90 =$

Observa las siguientes imágenes y completa: Recuerda simplificar la razón a su mínima expresión en caso de que sea posible.

2.-

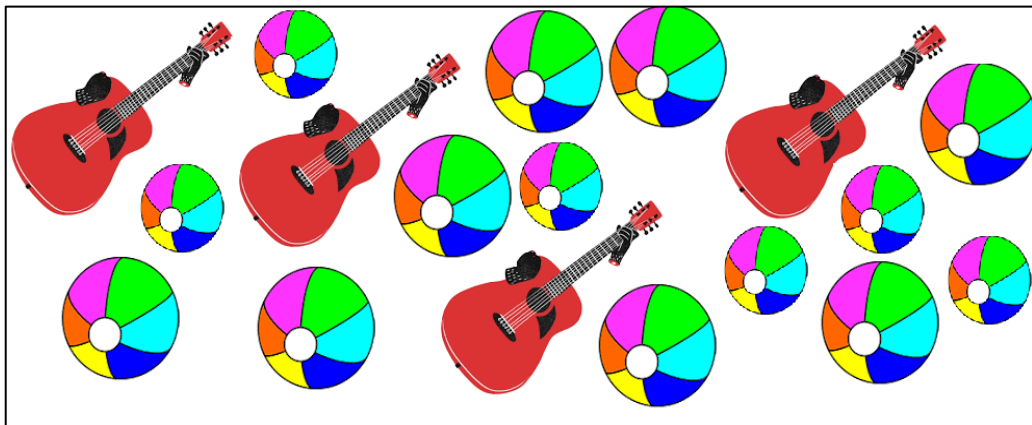


A. La razón entre los corazones y los sapos es

B. La razón entre el total de elementos y los corazones es

C. La razón entre los sapos y el total de elementos es

3.-




A. La razón entre las guitarras y las pelotas es

B. La razón entre el total de elementos y las guitarras es

C. La razón entre las pelotas y el total de elementos es

4.-



A. La razón entre las estrellas y los cisnes es

B. La razón entre el total de elementos y las estrellas es

C. La razón entre los cisnes y el total de elementos es

3.- Desafío:

Resuelve el siguiente problema aplicando las razones:

Si en un cine entran cada 2 minutos 3 personas. ¿Cuántas personas entraron en 24 minutos?