



## EVALUACIÓN FORMATIVA DE MÚSICA 6º AÑO BÁSICO SEMANA 35 - 36

Nombre:

Curso:

Fecha:

OA: 04 **Cantar al unisono y a más voces y tocar instrumentos de percusión, melódicos (metalófono, flauta dulce u otros) y/o armónicos (guitarra, teclado, otros).**

**Estimadas estudiantes esperando que se encuentren muy bien junto a su familia**, les cuento que durante la semana 35-36 se realizará la Evaluación Formativa, para saber cuánto han aprendido sobre la música y sus conceptos básicos.

La evaluación la realizarán a través de un formulario online o guía, en el último caso debes enviar la fotografía de tus respuestas correctas a la profesora por medio del correo electrónico o por su whatsapp.

**Marca con una X la letra de la alternativa correcta.** Cada pregunta tiene el valor de un punto.

El **pentagrama** (del griego: Penta: cinco, grama: escribir) es el lugar donde se escriben las notas y todos los demás signos musicales. Tiene cinco líneas y cuatro espacios, que se enumeran de abajo hacia arriba. Las líneas son horizontales, rectas y equidistantes.

Actualmente la escala **musical** diatónica (sin alteraciones ni cambios en la tonalidad) está compuesta por **siete** sonidos. En el caso de la mencionada escala mayor de do, las **notas** son las siguientes:

**do, re, mi, fa, sol, la, si** (según el sistema latino de notación).

Las **figuras musicales** o **figuras** rítmicas son signos usados para indicar la duración de los sonidos y, en conjunto con el pentagrama y la clave, escribir la música. Estas son siete y se llaman (en orden) redonda, blanca, negra, corchea, semicorchea, fusa y semifusa.

Una **figura musical** es un signo que posibilita la representación gráfica de una nota o un silencio. Se trata, por lo tanto, de un gráfico que refiere a un cierto sonido en el marco de una obra **musical**. Las **figuras musicales** indican la duración del sonido.

Las **notas musicales** nos indican la Altura del sonido mientras que las **figuras musicales** nos indican su duración. ... (Do, Re, Mi, Fa, Sol, La y Si) Se colocan en el Pentagrama y en función del lugar que ocupen en el mismo en sus diferentes líneas o espacios, serán un sonido u otro, es decir una **nota** u otra.

El **silencio** es la ausencia total del sonido. También significa abstención de hablar, en el ámbito de la comunicación humana. Y, sin embargo, que no haya sonido alguno no siempre quiere decir que no haya comunicación. El **silencio** ayuda en pausas reflexivas que sirven para tener más claridad de los actos.

### Tipos de silencios

**Silencio** de redonda. Toma el valor de esa nota y se denomina también De unidad, porque dura un tiempo completo del compás.





**Silencio** de blanca. ...

**Silencio** de negra. ...

**Silencio** de corchea. ...

**Silencio** de Semicorchea



<p><b>1- ¿Qué es un pentagrama?</b></p> <p>a) Es el lugar donde se escriben los silencios.  b) Es el lugar donde se escriben las notas.  c) Es el lugar donde se escriben las figuras musicales.</p>	<p><b>2- ¿Cuántas líneas tiene el pentagrama?</b></p> <p>a) Tiene cinco líneas y cuatro espacios.  b) Tiene cinco líneas y siete espacios.  c) Tiene diez líneas y ocho espacios</p>
<p><b>3- Actualmente la escala musical diatónica está compuesta por:</b></p> <p>a) Por siete sonidos.  b) Por 10 sonidos.  c) Por catorce sonidos.</p>	<p><b>4- ¿Para qué se usan las figuras musicales o figuras rítmicas?</b></p> <p>a) Son signos usados para indicar la duración de los silencios.  b) son signos usados para indicar la duración de los sonidos.  c) Las <b>figuras musicales o figuras rítmicas</b> son signos usados para indicar la duración de los sonidos.  d) son signos usados para indicar la duración de la nota DO.</p>
<p><b>5- Las notas musicales nos indican:</b></p> <p>a) Intensidad del sonido.  b) Altura del sonido.  c) Melodía del sonido.</p>	<p><b>6- ¿Qué es el silencio?</b></p> <p>a) Es el ruido que se escucha.  b) Es el sonido de los trenes.  c) Es la ausencia de sonido.</p>
<p><b>7- ¿Cuántas son las notas musicales?</b></p> <p>a) 7  b) 3  c) 10</p>	<p><b>8- ¿A qué nota musical pertenece la siguiente imagen?</b></p> <p>a) DO  b) RE  c) FA</p> 
<p><b>9- ¿A qué nota musical pertenece la siguiente imagen?</b></p> <p>a) DO  b) MI  c) FA</p> 	<p><b>10- ¿A qué nota musical pertenece la siguiente imagen?</b></p> <p>a) LA  b) SI  c) DO</p> 
<p><b>11- El Valor de una "REDONDA" es:</b></p> <p>a) 4 tiempos  b) 2 tiempos  c) 10 tiempos</p>	<p><b>12-El valor de una SEMICORCHEA es:</b></p> <p>a) 10 tiempos  b) ¼ tiempo  c) 1/16 tiempo</p>
<p><b>13- El valor de una corchea es:</b></p> <p>a) 4 tiempos  b) ½ tiempo  c) 7 tiempos</p> 	<p><b>14- El valor de una blanca es:</b></p> <p>a) 2 tiempos  b) ¼ tiempo  c) 8 tiempos</p>

